

1. İlk Türk devletlerinde ülke doğu ve batı şeklinde ikiye ayrılarak yönetilmiştir. Ülkenin doğu bölümünü hakan, batı bölümünü ise hakana bağlı hanedanın bir üyesi yönetmiştir.

İlk Türk devletlerinin bu uygulamayla aşağıdakilerden hangisini amaçladığı savunulabilir?

- A) Ülke yönetimini kolaylaştırmayı
B) Ticareti geliştirmeyi
C) Asker sayısını artırmayı
D) Yeni devletlerin kurulmasını önlemeyi

2.

(1) Türkiye Selçuklu ordusu ile Moğol ordusu Sivas yakınlarındaki Köseadağ mevkiinde karşılaşmıştır. (2) Köseadağ Savaşı'nı Moğollar kazanmıştır. (3) Türkiye Selçuklu Devleti yıkılma sürecine girmiş ve Anadolu'da tekrar beylikler dönemi başlamıştır. (4) Moğol baskısından kaçan Türkmenler Anadolu'nun batısına doğru giderek bu bölgedeki Türk nüfusunun artmasını sağlamıştır.

Yukarıdaki parçada numaralandırılmış cümlelerden hangisi Anadolu'da Türk siyasi birliğinin bozulduğuna kanıt olarak gösterilebilir?

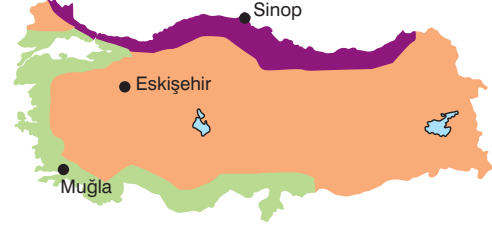
- A) 1 B) 2 C) 3 D) 4

3. Bir bölgenin yer şekillerini yani dağlarını, ovalarını, platolarını, vadilerini, akarsularını ve göllerini göstermede kullanılan haritalara fizikî harita denir.

Buna göre aşağıdakilerden hangisi, Türkiye Fizikî Haritası'nın incelenmesiyle öğrenilemez?

- A) Kıyı bölgelerde yer alan ovalar
B) Marmara Bölgesi'ndeki dağlar
C) Nüfusun yoğun olduğu iller
D) Ege Denizi'ne dökülen akarsular

4. Aşağıdaki haritada, Türkiye'deki iklim bölgeleri ile bazı şehirlerin konumları gösterilmiştir.



Buna göre, haritadaki şehirlerde görülen iklim tipleri, aşağıdakilerin hangisinde doğru verilmiştir?

	Muğla	Eskişehir	Sinop
A)	Akdeniz	Karadeniz	Karasal
B)	Karadeniz	Karasal	Akdeniz
C)	Karasal	Akdeniz	Karadeniz
D)	Akdeniz	Karasal	Karadeniz

5. Aşağıdaki Dünya haritasında kıtaların, okyanusların ve ülkemizin konumu gösterilmiştir.



Haritadaki bilgilere göre, aşağıdaki yargılardan hangisine ulaşamaz?

- A) Ülkemizin okyanuslara kıyısı bulunmamaktadır.
B) Afrika Kıtası'nın hem Kuzey Yarım Küre'de, hem de Güney Yarım Küre'de toprakları bulunur.
C) Okyanusya Kıtası, Türkiye'nin kuzeybatısında yer alır.
D) Ülkemiz Ekvator'un kuzeyinde, başlangıç meridyeninin doğusunda yer alır.

6. “Ülkemiz Asya, Avrupa ve Afrika kıtalarının birbirine yaklaştığı yerdedir. Üç tarafı denizlerle çevrili olan ülkemiz, İstanbul Boğazı ve Çanakkale Boğazı ile kıtaları birbirine bağlayan önemli geçiş yollarını oluşturur. Ülkemizin batıdan doğuya doğru yükseltisinin artmasından dolayı, doğuya doğru sıcaklıklar azalır. Dağların doğu-batı yönünde uzanması, ulaşımın da doğu-batı yönünde gelişmesine neden olmuştur. Yer altı ve yer üstü kaynakları bakımından zengin olan ülkemiz, aynı zamanda petrol zengini ülkelere yakındır. Bu nedenle petrol ve doğal gaz boru hatlarının geçiş noktasını oluşturur.”

Yukarıdaki paragrafta, aşağıdakilerden hangisi açıklanmıştır?

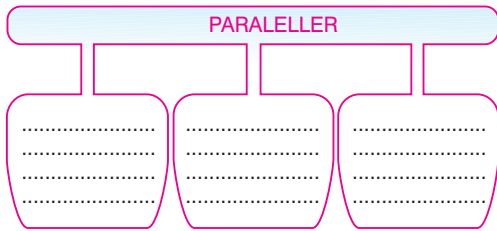
- A) Türkiye'nin göreceli konumu
B) Türkiye'den geçen paralel ve meridyenler
C) Türkiye'nin beşerî özellikleri
D) Türkiye'nin matematik konumu

7. I. Platoların en fazla bulunduğu yer Karadeniz kıyılarıdır.
II. Doğu Anadolu, İç Anadolu ve Güneydoğu Anadolu'da volkanik dağlar bulunur.
III. Toros Dağları, ülkemizin kuzey kıyıları boyunca uzanan sıradağlardır.
IV. Ülkemizdeki ovalar tarımın yoğun şekilde yapıldığı, aynı zamanda hayvancılığın ve ulaşımın da geliştiği, nüfusun fazla olduğu yerlerdir.

Ülkemizin yer şekilleriyle ilgili yukarıda verilen bilgilerden hangileri yanlıştır?

- A) I ve II
B) I ve III
C) II ve III
D) II ve IV

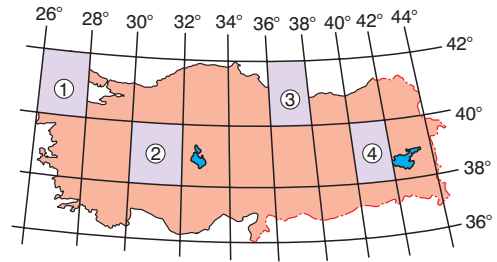
8.



Yukarıdaki diyagramdaki boş bırakılan yerlere, aşağıdakilerden hangisi yazılamaz?

- A) Ekvator'dan kutuplara doğru gidildikçe boyları kısalır.
B) Birer derece aralıkla yatay yönde çizilirler.
C) Aralarındaki uzaklık 111 km'dir.
D) Bir kutup noktasından başlayıp diğer kutup noktasında birleşirler.

9. Dağcı grubu, gönderdikleri mesajda Ekvator'un 39° kuzeyinde ve başlangıç meridyeninin 31° doğusunda yer alan bölgede kaybolduklarını bildirmişlerdir.



Buna göre, arama kurtarma ekibinin kayıp dağcılarını, haritada numaralandırılan bölgelerin hangisinde araması gerekir?

- A) 1
B) 2
C) 3
D) 4

10. “Çocuklar!, Akdeniz çevresinde yaygın bir biçimde görülen; yabani zeytin, defne, mersin, zakkum gibi odunsu, dikenli, bodur ağaç ve çalılardan oluşan bitki topluluğudur.”

Sosyal Bilgiler öğretmeninin konuşmasında boş bırakılan yere, aşağıdakilerden hangisinin yazılması daha uygundur?

- A) Maki
B) Bozkır
C) Çayır
D) Orman