



T.C.
MİLLÎ EĞİTİM BAKANLIĞI
ÖLÇME, DEĞERLENDİRME VE SINAV HİZMETLERİ GENEL MÜDÜRLÜĞÜ

2019 - 2020 ÖĞRETİM YILI
8. Sınıf Öğrencileri İçin Çalışma Soruları

(Bu kitapçık Aksaray İl Millî Eğitim Müdürlüğü
Ölçme Değerlendirme Merkezi tarafından hazırlanmıştır.)

- Bu kitapçıkta 8. sınıf düzeyi I. dönem konularını kapsayan sorular bulunmaktadır.
 - Türkçe : 10 soru
 - Matematik : 4 soru
 - Fen Bilimleri : 7 soru
 - T. C. İnkılap Tarihi ve Atatürkçülük : 12 soru
 - Din Kültürü ve Ahlak Bilgisi : 6 soru
 - İngilizce : 21 soru



Türkçe Soruları

1. Teneffüs zili çalınca peşleri sıra bahçeye çıktım. Sıcaklardan kurumaya yüz tutmuş, yörenin insanları gibi kavrulmuş üç dört söğüt ağacı çepeçevre sarmıştı okulu. Hemen yanında bunları sulamak için sıralanmış, ne zamandan kaldığı belli olmayan boyası dökülmüş, yazısı silinmiş, eğilmiş, delinmiş, yer yer pas tutmuş birkaç kova âdeta oradaki yokluğun, sefaletin izlerini taşımaktaydı. Anadolu'nun umutlarla gelinen, çoğu zaman oradan düş kırıklığıyla dönülen tipik bir kasaba okulu.

Bu paragrafın anlatım biçimi ile ilgili aşağıdaki açıklamalardan hangisi doğrudur?

- A) Amacı okuyucuyu bilgilendirmek, ona bir şeyler öğretmek için nesnel anlatımla sade ve anlaşılır bir dilin kullanıldığı **açıklayıcı** anlatım biçimi kullanılmıştır.
- B) Varlıkların, nesnelere belirgin niteliklerinin bir resim çizer gibi ayrıntılı bir şekilde anlatıldığı, okuyucunun zihninde canlandırabileceği şekilde aktarıldığı **betimleyici** anlatım biçimi kullanılmıştır.
- C) Yazarın okuyucuyu kendi düşüncelerinin doğruluğuna inandırmak ve onun kendisi gibi düşünmesini sağlamak, varsa yanlış düşünceyi çürütmek amacıyla yazdığı **tartışmacı** anlatım biçimi kullanılmıştır.
- D) Yaşanmış ya da yaşanması mümkün bir olayın anlatıldığı **öyküleyici** anlatım biçimi kullanılmıştır.

2. Köyün tozlu toprak yolundan alıç ağaçlarını arkamızda bırakarak ilçeye geldik. Herkes bir anda dağılıp kayboldu. Ben önde, eşim bir adım arkada, kucağında Satılmış'ımla doğruca hastane kapısına yöneldik. İçeri girer girmez keskin anason ve tentürdiyot kokusu genzimi yaktı, başımı hafifçe döndürdü. İçerisi dışarıdan daha kalabalıktı, sanki ilçenin çocuklarının çoğu hastaydı ve buraya getirilmişti. Etrafı şaşkınlıkla seyrederken yerleri paspaslayan hizmetlinin yardımıyla sıra numarası aldım. Sıra numarasını elimde tutup ne yapacağımı bilmez dikilirken sıradaki bir bayan elimdeki numaraya baktı. On ikinci sıradakinin muayene olduğunu, daha bana yüz on kişinin olduğunu söyledi. Ötekiler gibi beklemeye başladım.

Bu paragrafın anlatımıyla ilgili aşağıdaki açıklamalardan hangisi doğrudur?

- A) Bir konu ile ilgili açıklama, bilgilendirme yapılmıştır.
- B) İnsana ait özellikler cansız varlıklara verilmiştir.
- C) Düşüncelerini kanıtlamayı amaçlamıştır.
- D) Bir yaşam kesiti, belli bir olaya bağlı olarak anlatılmıştır.

3. Fiillerden türemelerine rağmen cümle içerisinde isim soylu sözcükler gibi kullanılan fiil soylu sözcüklere **fiilimsi** denir. Türkçede fiilimsiler, fiillere yapım ekleri ekleyerek oluşturulur.

• **İsim-fiiller**, fiil kök ya da gövdelerine “-ma / -me, -mak/ mek, -ış / -iş/ -uş/ üş” ekleri getirilerek türetilir. Cümlede isim görevinde kullanılır.

• **Sıfat fiiller**, fiil kök ya da gövdelerine “-an/-en, -ası/-esi, -maz/-mez, -ar/er , -dık/- dik, -acak/-ecek, -mış/-miş” ekleri getirilerek türetilir. Cümlede sıfat göreviyle kullanılır.

• **Zarf fiiller**, “-ken, -alı, -madan, -ince, -ip, -arak, -dıkça, -e...-e, -ır...-maz, -casına, -meksizin, -dığında” ekleri getirilerek türetilir. Cümlede durum ve zaman zarfı görevinde kullanılır.

Buna göre,

İnsan, gerçeğe yöneldiği oranda mutlu olur. Biz, her şeyin gerçeğini öğrendiğimiz zaman kapalı yol olmaktan kurtuluruz. Yıldızlı şeyler, göz kamaştırıcı güzellikte görüntüye sahip olanlar bizleri kolay kolay kandıramazlar. Bizi felaketlere sürükleyen alışkanlıklarımız ilkin bizi güzel görünüşleriyle, yıldızlı duruşlarıyla avlarlar.

metninde kaç tane fiilimsi kullanılmıştır?

- A) 4 B) 5 C) 6 D) 7

4. Aşağıdaki cümlelerin hangisinde virgülün atılması anlam değişikliğine yol açmaz?

- A) Hanım, doktora hastalığı hakkında bilgi veriyordu.
B) Bu, kitabın arasında bırakılmış son bir mektuptu.
C) Genç adam, çalışmaktan çok bitkin düşmüştü.
D) Küçük, ağacın gölgesinde uyuyakalmıştı.

5. Akşama doğru havuzdan elbiselerim lime lime olmuş, elim yüzüm yara bere içinde gelince babam o gece benimle hiç konuşmadı. Sessizlik duvarı ördü aramıza. Ertesi gün kerpeten gibi parmaklarıyla kulağımdan tuttuğu gibi yola koyulduk. Bir süre sonra önüne kalaslar konmuş ilk bakışta marangozhane olduğu belli olan iki katlı bir evin alt katına yöneldik. Sessizliğini hâlâ bozmamıştı. Kötü bir şeyler olacağını sezmiş, suspus olmuşum. Babam ısrarla benimle göz göze gelmekten kaçınıyor, “Aylak aylak gezmeyi görürsün!” diye mırıldanıyordu.

Bu metinde kaç tane deyim kullanılmıştır?

- A) 3 B) 4 C) 5 D) 6

6. **Nokta** : Cümlelerin sonuna konur.
Üç Nokta : Anlatım olarak tamamlanmamış cümlelerin sonuna konur.
Kısa Çizgi : Cümle içinde ara sözcükleri veya ara cümleleri ayırmak için ara sözcüklerin veya ara cümlelerin başına ve sonuna konur, bitişik yazılır.
Ünlem İşareti : Seslenme, hitap ve uyarı sözlerinden sonra konur.
Tırnak İşareti : Başka bir kimseden veya yazıdan olduğu gibi aktarılan sözler tırnak içine alınır.

Buna göre,

Köyde yaşlıları ve çocukları bırakmışlardı sadece () Metruk su değirmeninin köşesinden geçiyordum ki Kavruk Kadir () Esmeye dur hele () () diye yılan gibi tıslayarak karşıma çıkıverdi ()

metinde yay ayraç () içerisinde gösterilen yerlere sırasıyla aşağıdaki noktalama işaretlerinden hangileri getirilmelidir?

- A) (...)(")(!)(")(!)
B) (.)(")(!)(")(.)
C) (.)(-)(!)(-)(.)
D) (...)(")(")(!)(.)

7.

SIFAT-FİLLER

Sıfat-fiillerin önündeki isim bazen düşebilir. Bu durumda sıfat-fiiller "adlaşmış sıfat-fiil" görevinde kullanılır. "Çalışan insanlar daima kazanır." cümlesinde sıfat-fiil, sıfat görevinde kullanılırken "Çalışanlar daima kazanır." cümlesinde ise "adlaşmış sıfat-fiil" olarak kullanılmıştır.

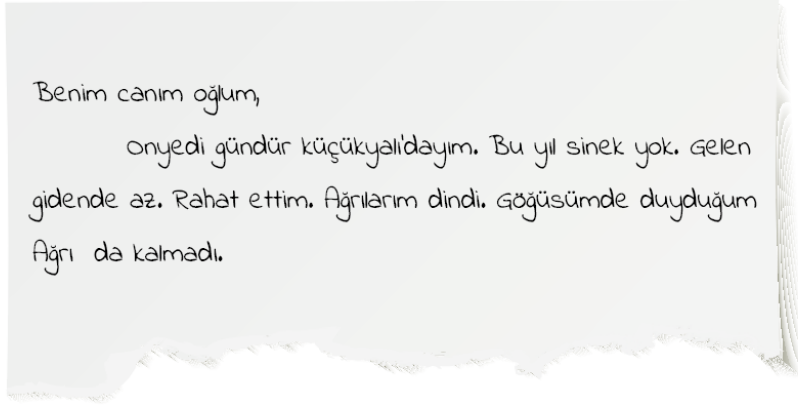
Buna göre aşağıdaki cümlelerin hangisinde adlaşmış sıfat-fiil kullanılmamıştır?

- A) Yeni gelenler, sınıfa kolayca uyum sağlamışlardı.
B) İlerideki manzarayı gören çocuk, şaşkınlıktan küçük dilini yutacaktı.
C) Dünyamız, geleceğe azimle bakarak çalışanlar sayesinde gelişecektir.
D) Uzun bir tatilden dönenler, işe gitmekte zorluk yaşayacaktır.

8. Aşağıda sözcüklerin yazımı ile ilgili bazı yazım kuralları verilmiştir:

- Mektuplarda ve resmî yazışmalarda hitaplar büyük harfle başlar.
- Yer adları (kita, bölge, il, ilçe, köy, semt vb.) büyük harfle başlar.
- Bağlaç olan da / de ayrı yazılır ve kendisinden önceki kelimenin son ünlüsüne bağlı olarak büyük ünlü uyumuna uyar.
- Birden fazla kelimededen oluşan sayılar ayrı yazılır.
- İki heceli bazı kelimeler ünlüyle başlayan bir ek aldıklarında ikinci hecelerindeki dar ünlüler düşer. Buna uyulmazsa yazım yanlışı yapılmış olur.

Bu kurallara göre,



yukarıda bir kısmı görünen mektupta toplam kaç tane yazım yanlışı vardır?

A) 4

B) 5

C) 6

D) 7

9.

Yazar ve hocayım. Yarım asrı aşan hayatım okumak ve okutmakla geçti. Sekizi tercüme, dördü telif bir düzine kitabım ve yüzlerce makalem var. "Hisar", "Kubbealtı", "Türk Edebiyatı" adlı dergilerde ve haftalık gazetelerde tetkik (inceleme) ve tenkitlerim (eleştiri) yayımlanmaktadır. Fransızca bilirim. İngilizceyi anlar ve Arapçayı sökerim. Başlıca işim düşünmek ve düşündüklerimi cemiyete (toplum) sunmaktır.

Bu metinde sözü edilen kişiyle ilgili aşağıdakilerden hangisi söylenemez?

- A) Elli yıldan fazladır yazmaktadır.
- B) Birden fazla dil bilmektedir.
- C) Edebiyatın çeşitli türleri ile ilgili eserler vermiştir.
- D) İnsanlara bir şeyler öğretmektedir.

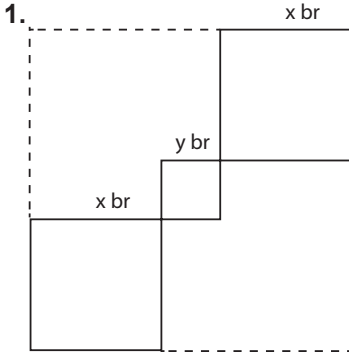
10. Uğur, Kemal, Faruk, İzzet, Orhan ve Serkan bir lokantada yemek siparişi vermişlerdir.. Bunlardan üçü kebab, ikisi kuru fasulye, biri de tatlı yemektir. Yedikleriyle ilgili bilinenler şunlardır:

- İzzet, Uğur ve Faruk birbirinden farklı şeyler yemiştir.
- Orhan, Faruk ile aynı; Serkan'dan farklı bir şey yemiştir.
- Kemal, kebab yemiştir.

Bu bilgilere göre aşağıdakilerden hangisi kesinlikle yanlıştır?

- A) Orhan, kuru fasulye yemiştir.
- B) Serkan, tatlı yemiştir.
- C) Uğur, tatlı yemiştir.
- D) İzzet, kebab yemiştir.

Matematik Soruları



Yanda kenar uzunlukları x br ve y br olarak verilen kareler kesik çizgilerle gösterilmiş en küçük alana sahip kare olacak şekilde tamamlanıyor. **Tamamlandığında oluşan şeklin birimkare cinsinden alanını gösteren cebirsel ifade aşağıdakilerden hangisi olur?**

- A) $2x^2 + y^2$ B) $4x^2 + y^2$ C) $4x^2 + 4xy + y^2$ D) $2x^2 + 2xy + y^2$

2.



Yusuf mart ayına ait yaprakları tek tek koparıp rastgele yere diziıyor ve içlerinden bir yaprak seçiyor. **Rastgele seçtiği takvim yaprağının salı gününe gelen asal sayı olma olasılığı aşağıdakilerden hangisidir?** (Mart ayı 31 gündür)

- A) $\frac{1}{31}$ B) $\frac{2}{31}$ C) $\frac{3}{31}$ D) $\frac{4}{31}$

3.

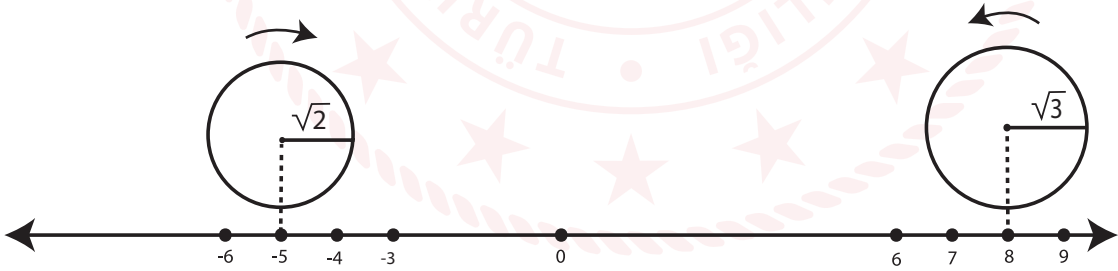


Melek, hesap makinesinin ilk bastığı tuş 0 olmamak şartıyla herhangi iki rakama basıp $\sqrt{\quad}$ (karekök) sembolüne basmaktadır. **Melek en az kaçınıcı kez $\sqrt{\quad}$ (karekök) sembolüne bastığında sonuç kesinlikle bir irrasyonel sayı çıkar?**

- A) 4 B) 5 C) 6 D) 7

4.

Yarıçapının uzunluğu r olan bir çemberin çevresi $2\pi r$ 'dir.



Yarıçap uzunlukları $\sqrt{2}$ br ve $\sqrt{3}$ br olan iki çember, 1br aralıklarla bölünmüş sayı doğrusu üzerinde sırasıyla -5 ve 8 noktalarında bulunmaktadır. **Bu noktadan ok yönünde tam bir tur döndükleri zaman aralarındaki mesafenin orta noktası hangi iki tam sayı arasında olur? ($\pi=3$ alınız)**

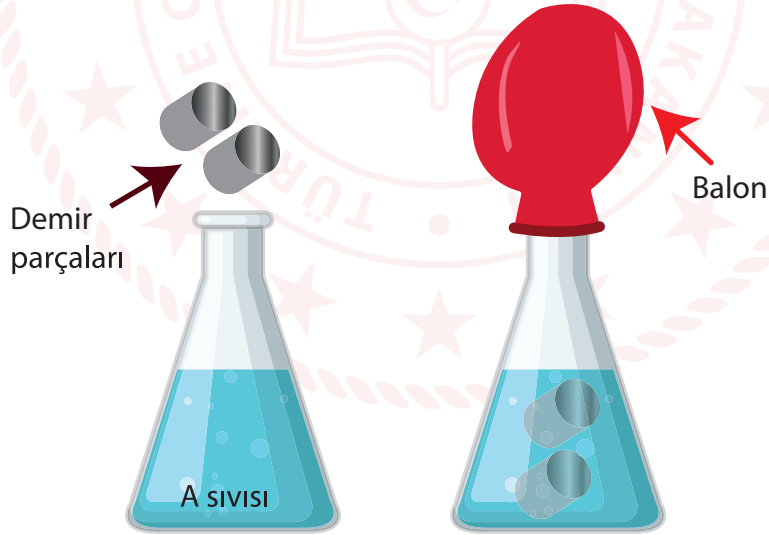
- A) -2 ile -1 B) -1 ile 0 C) 0 ile 1 D) 1 ile 2

Fen Bilimleri Soruları

1. Yanda periyodik tablonun bir kısmı verilmiştir. Sağdaki sütun 8A grubudur.
- | | | |
|---|---|---|
| P | S | K |
| | N | L |
| | R | M |
- Buna göre,**
- I. K, L, M elementlerinin son yörüngelerinde eşit sayıda elektron bulunur.
 - II. N ve L elementlerinin elektron bulunduran katman sayıları eşittir.
 - III. N ve R elementlerinin kimyasal özellikleri benzerdir.
- ifadelerinden hangileri doğrudur?**

- A) I ve II. B) I ve III. C) II ve III. D) I, II ve III.

2. A sıvısına aşağıdaki şekilde olduğu gibi demir parçaları atılıp hemen ardından sönük bir balon kabın ağzına takılıyor.



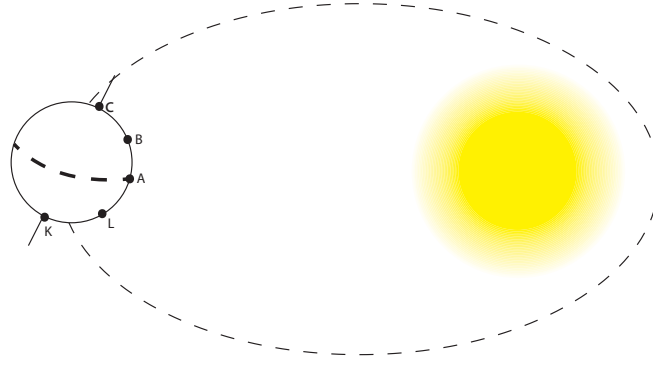
Balon zamanla şiştiğine göre,

- I. Kimyasal bir tepkime gerçekleşmiştir.
- II. Demir parçalarının miktarı zamanla azalmıştır.
- III. A sıvısının miktarı zamanla artmıştır.

ifadelerinden hangileri doğrudur?

- A) I ve III. B) I ve II. C) II ve III. D) I, II ve III.

3. Aşağıda Dünya'nın Güneş etrafında dolanımının kesiti verilmiştir.



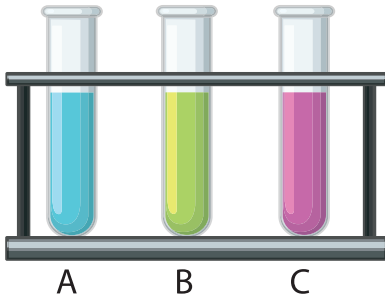
Bu şekle göre,

- I. Kuzey yarım kürede bu tarihten itibaren gündüz süreleri kısalmaya başlar.
- II. A noktasından K noktasına gidildikçe gündüz süresi uzar.
- III. C ve K noktalarında gece ve gündüz süreleri arasındaki fark en fazladır.

ifadelerinden hangileri doğrudur?

- A) I ve II. B) I ve III. C) II ve III. D) I, II ve III.

4. Okuldaki fen laboratuvarında sadece asit ve baz şişelerinin olduğu bir dolap bulunmaktadır. Ancak şişelerin üzerindeki yazıların bazıları silinmiştir. Fen Bilgisi öğretmeni şişelerde asit mi baz mı olduğunu anlamak için şişeleri çıkarıyor ve aşağıdaki işlem basamaklarını uyguluyor.



- I. Basamak : A ve C şişelerine mavi turnusol kağıdı batırıyor, sadece A şişesindeki sıvı turnusol kağıdının rengini değiştiriyor.
- II. Basamak : B ve C şişelerine fenolftalein çözeltisi damlatıyor ve sadece C şişesinde renk değişimi oluyor.
- III. Basamak : A, B ve C şişelerine metil oranj çözeltisi damlatıyor ve C şişesindeki sıvının sarı, A ve B şişelerindeki sıvının ise kırmızı renk aldığı görülüyor.

Buna göre öğretmenin tüm sıvıların ne olduğunu belirleme durumu hangi basamakta tamamlanır?

- A) I. basamakta B) II. basamakta
C) III. basamakta D) Belirleyememiştir.

5. Remziye Öğretmen fen laboratuvarında öğrencilere yol göstermesi amacıyla aşağıdaki çizelgeyi doldurarak maddelerin özellikleri hakkında bilgi vermek istiyor.

ÖZELLİK	ASİT	BAZ
H ⁺ iyonu sayısı OH ⁻ iyonu sayısından fazladır		
Cama ve porselene zarar verir		
Metal kapları aşındırır		
Kuvvetli olanı cilde zarar verir		

Buna göre çizelgenin doldurulmuş şekli aşağıdakilerden hangisinde doğru verilmiştir?

A)

ÖZELLİK	ASİT	BAZ
H ⁺ iyonu sayısı OH ⁻ iyonu sayısından fazladır	✓	✓
Cama ve porselene zarar verir		✓
Metal kapları aşındırır	✓	✓
Kuvvetli olanı cilde zarar verir	✓	✓

B)

ÖZELLİK	ASİT	BAZ
H ⁺ iyonu sayısı OH ⁻ iyonu sayısından fazladır	✓	
Cama ve porselene zarar verir	✓	
Metal kapları aşındırır		
Kuvvetli olanı cilde zarar verir	✓	

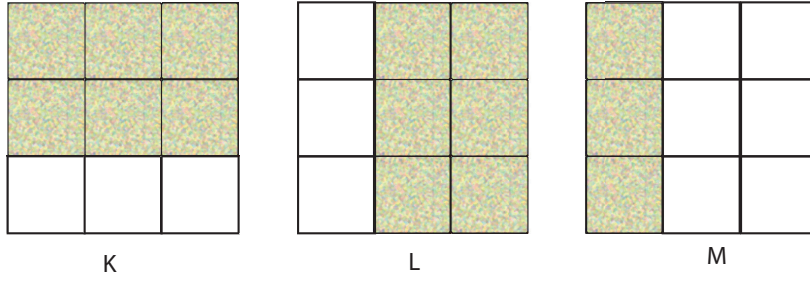
C)

ÖZELLİK	ASİT	BAZ
H ⁺ iyonu sayısı OH ⁻ iyonu sayısından fazladır	✓	
Cama ve porselene zarar verir		✓
Metal kapları aşındırır	✓	
Kuvvetli olanı cilde zarar verir	✓	✓

D)

ÖZELLİK	ASİT	BAZ
H ⁺ iyonu sayısı OH ⁻ iyonu sayısından fazladır	✓	
Cama ve porselene zarar verir		✓
Metal kapları aşındırır		✓
Kuvvetli olanı cilde zarar verir	✓	✓

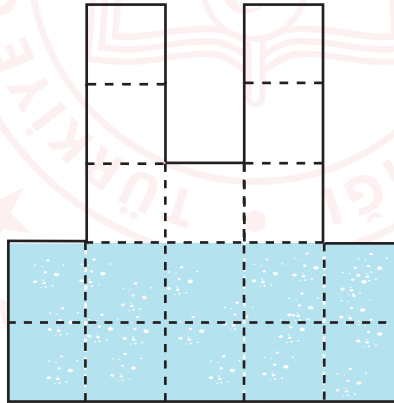
6. Öğretmen tahtaya çizdiği özdeş küplerden oluşan şekillerden taradığı kısımların kesilerek atılmasını istiyor.



Buna göre kalan parçaların zemine uyguladıkları basıncın başlangıçtakine göre değişimi hangi seçenekte doğru verilmiştir?

- | | K | L | M |
|----|----------|----------|----------|
| A) | Azalır | Azalır | Artar |
| B) | Artar | Azalır | Azalır |
| C) | Azalır | Değişmez | Değişmez |
| D) | Değişmez | Azalır | Değişmez |

7.



Eşit bölmelendirilmiş kaptaki bulunan sıvının kap tabanına yaptığı basıncı öğrenciler 4P olarak hesaplamışlardır. Ders öğretmeni kabı 180° döndürerek öğrencilerine kap tabanındaki sıvı basıncının değişimini soruyor. Öğrenciler soruya şu şekilde cevap veriyorlar:

- Emre :2P ile 4P arasındadır.
Sevgi :4P ile 8P arasındadır.
Ayşe :8P ile 10P arasındadır.
Mustafa :P ile 4P arasındadır.

Öğrencilerden hangisi soruya doğru cevap vermiştir?

- A) Emre B) Sevgi C) Ayşe D) Mustafa

T.C. İnkılap Tarihi ve Atatürkçülük Soruları

1. İtalya siyasi birliğini geç tamamladığından sömürgecilik yarışında diğer Avrupa devletlerine göre geç kalmış ve bu açığı kapatmak için 1911'de Osmanlı toprağı olan Trablusgarp'a saldırmıştır. Osmanlı Devleti'nin bölgeyi savunma imkânı olmadığı için bölgeye Mustafa Kemal ile birlikte bir grup subay gizlice gidip yöre halkını İtalyanlara karşı örgütlemiştir.

Yalnızca bu bilgilere dayanarak aşağıdakilerden hangisine ulaşamaz?

- A) Osmanlı Devleti askeri yönden zayıftır.
- B) İtalyanlar yayılmacı politika yürütmüşlerdir.
- C) Mustafa Kemal ve arkadaşları bölgeyi İtalyanlara karşı korumayı başarmışlardır.
- D) İtalya, Afrika'da etkin olmaya çalışmaktadır.

2. Mehmet Emin Yurdakul'un Türk tarihi ve Türk kültürü ile ilgili yazdığı eserler, Atatürk'te çağdaş milliyetçiliğin oluşmasında etkili olmuştur.

Buna göre Atatürk'te milliyetçilik duygusunun oluşmasında,

- I- Tarih bilincinin artması,
- II- Farklı yerlerde askeri görevlerde bulunması,
- III- Kültürel değerleri önemsemesi,

ifadelerinden hangilerinin etkili olduğu savunulabilir?

- A) I ve III. B) II ve III. C) Yalnız II. D) Yalnız I.

3. Mondros Ateşkes Antlaşması'nın imzalanmasından sonra Samsun ve çevresinde yaşayan Rumlarla Türkler arasında çatışmalar başlamış, bu durumdan rahatsız olan İngilizler kargaşaya son verilmesini aksi takdirde Mondros Ateşkesi gereğince işgale başlayacaklarını İstanbul Hükümeti'ne bildirmişlerdir. Bu durum üzerine İstanbul Hükümeti Mustafa Kemal'i 9. Ordu Müfettişi olarak bölgeye göndermiştir.

Yalnızca bu bilgilere bakılarak aşağıdakilerin hangisine ulaşamaz?

- A) Türkler ve azınlıklar arasında sorunlar yaşanmaktadır.
- B) Mondros, Anadolu'nun işgaline zemin hazırlamıştır.
- C) Mustafa Kemal resmi bir görevle Anadolu'ya gelme imkânı bulmuştur.
- D) Anadolu topraklarının işgal edilmesi önlenmiştir.

4. Amasya Genelgesi'nde;

Sivas Kongresi için her ilden milletin güvenini kazanmış delegeler seçilerek gönderilmesi istenmiştir.

Buna göre,

- I- Bölgesel kararların alınması amaçlanmıştır.
- II- Millet iradesinin oluşturulması amaçlanmıştır.
- III- Mebusan Meclisi'nin etkisi azaltılmaya çalışılmıştır.

İfadelerinden hangileri Amasya Genelgesi'nde alınan kararlar doğrudan ilgilidir?

- A) I, II ve III. B) II ve III. C) Yalnız II. D) Yalnız I.

5. Erzurum Kongresi, toplantı bakımından bölgesel, aldığı kararlar bakımından ulusal bir kongredir.

Buna göre,

- I- Doğu illerinden gelen delegelerden oluşması,
- II- Mustafa Kemal'in kongre başkanlığına seçilmesi,
- III- "Vatan bir bütündür, parçalanamaz." kararının alınması,

İfadelerinden hangileri yukarıdaki açıklamayı doğrudan destekler niteliktedir?

- A) I ve II. B) II ve III. C) I ve III. D) I, II ve III.

6. Sevr Antlaşması'nda;

"Boğazlar her türlü geçişe serbest olacak ve boğazları uluslararası bir komisyon yönetecektir." maddesi yer almaktadır.

Buna göre,

- I. Osmanlı Devleti'nin egemenlik hakları sınırlanmıştır.
- II. Askeri ve ticari gemi geçişleri sınırlı olacaktır.
- III. Osmanlı Devleti'nin boğazlar üzerinde yetkisi kalmamıştır.

İfadelerinden hangilerine ulaşılabilir?

- A) Yalnız I. B) I ve II. C) I ve III. D) Yalnız III.

7. Tekalif-i Milliye emirlerine göre;

- Her ailenin birer takım çamaşır, bir çift çorap ve bir çift çarık teslim etmesi,
- Tüccarın elindeki giyim ve gıda maddelerinin %40'ına el konulması,
- Özel taşıtların ayda bir, 100 km askeri amaçlı taşıma yapması istenmiştir.

Buna göre Tekalif-i Milliye için,

I- Ulusal bağımsızlığın kazanılması için millettten fedakârlık istenmiştir.

II- Milli ekonomi ilkeleri belirlenmiştir.

III- Türk halkı seferberliğe çağrılmıştır.

yargılarından hangilerine ulaşılabilir?

- A) I ve III. B) II ve III. C) Yalnız III. D) Yalnız I.

8. Sakarya Savaşı öncesi ordunun Sakarya Nehri'nin doğusuna çekilmesi, halkta karamsarlığa neden olmuş, TBMM'deki Mustafa Kemal muhalifleri de "Ordu nereye gidiyor, millet nereye götürülüyor?" diyerek Mustafa Kemal'i eleştirmişlerdir.

Verilen bilgilere dayanılarak aşağıdaki yargılardan hangisine ulaşamaz?

- A) TBMM'de görüş ayrılıkları vardır.
- B) Halk içinde Milli Mücadele'nin kaybedileceğine ilişkin görüşler vardır.
- C) İşgal güçlerinin ilerleyişi durdurulamamıştır.
- D) Sakarya Savaşı'nda istenilen başarıya ulaşamamıştır.

9. Selanik şehrinde Türkler ile birlikte Rum, Bulgar, Sırp, Yahudi ve Ermeni milletlerinin de yaşıyor olması aşağıdakilerden hangisinin göstergesidir?

- A) Ekonomik yapı güçlüdür.
- B) Azınlık ayaklanmaları görülmektedir.
- C) Kültürel çeşitlilik vardır.
- D) Avrupa ile ilişkiler gelişmiştir.

10. Osmanlı Devleti'nde 19. yüzyıl içerisinde buhranlı günler yaşanıyor. Ülke içerisinde zaman zaman azınlıklar ayaklanmalar çıkarıyor. Yapılan savaşlar genelde başarısızlıkla sonuçlanıyor, devletin sınırları küçülüyor. Bu zor durumdan kurtulmak için Osmanlı yönetimi ve aydınları bir şeyler yapma gayretini de gösteriyorlardı. 1876 yılında II. Abdülhamit Osmanlı yönetimine geçtiğinde Meşrutiyet'i ilan etti. Bu yapılan yenilik doğrultusunda, aynı yıl içerisinde Osmanlı Devleti'nin ilk anayasası olan Kanun-ı Esasi hazırlandı ve yürürlüğe girdi. Yapılan çalışmalarla Mebusan Meclisi oluşturuldu. Böylece halk yönetime dolaylı da olsa katılma fırsatı buldu. Osmanlı Devleti, ülke içerisinde işlerin yasalara göre işleyeceğini ve padişahın da bu kurallara uyacağını göstermeye çalıştı. Mebusan Meclisi'nin aldığı kararlar ise en son padişahın onayından geçmek zorunda idi.

Yukarıda verilen metne göre Osmanlı Devleti'nin 19. yüzyıldaki durumu hakkında aşağıdaki çıkarımlardan hangisine ulaşamaz?

- A) Osmanlı Devleti yaşanan yüzyılda önemli sorunlarla uğraşmak zorunda kalmıştır.
- B) Yapılan yeniliklere rağmen mutlakiyetçi (monarşi) yönetim devam etmektedir.
- C) Osmanlı yöneticileri ve aydınları yeni bir yönetim biçimini uygulamaya çalışmışlardır.
- D) Ekonomiyi düzeltmek için önemli tedbirler ve kararlar uygulamaya konulmuştur.

11. Büyük devletlerin Balkanlardaki Hristiyan unsurları Osmanlı Devleti hakimiyetinden kurtarma politikasının başarıya ulaşmasının ardından, Anadolu'nun Hristiyan halkından olan Ermeniler de aynı yolla kendi özerklikleri ve egemenliklerini alabilecekleri konusunda ümitlendiler. Avrupalı güçler, özellikle İngiltere, Rusya ve Fransa dünya hakimiyeti ve sömürge politikaları çerçevesinde Ermenilerin isteklerine sıcak baktılar. Nitekim 1877-1878 Osmanlı-Rus savaşı sonunda, Rusya ile imzalanan Ayastefanos Antlaşması ve Berlin Antlaşması'na Ermeniler lehine koydukları hükümlerle Ermenileri kendi yanlarına çekmeye başladılar. Böylece ilk olarak bir antlaşmaya konu olan Ermeniler, devletlerarası rekabetin önemli bir parçası haline gelmiş oluyorlardı. İngiltere, Ayastefanos Antlaşması'ndan sonra Rusya'nın güneye inmesini engellemek amacıyla Ermeni meselesine karışmaya başlamış adeta Ermenilerin koruyucusu rolünü üstlenmişti.

Yukarıda verilen metne göre,

- I. 19. yüzyılda Avrupa'nın bazı güçlü devletleri azınlıkları kullanarak etki alanlarını genişletmek istemektedirler.
- II. İngiltere, Rusya'yı kendine rakip olarak görmektedir.
- III. Ermeniler 19. yüzyılda Avrupa devletlerinden destek görmüşlerdir.
- IV. Osmanlı Devleti 19. yüzyılda Balkanlarda Hristiyan unsurları hakimiyeti altında tutmayı başarmıştır.

yargılarından hangilerine ulaşılabilir?

- A) I ve III.
- B) I, II ve III.
- C) II, III ve IV.
- D) I, II, III ve IV.

12. Türk ordusu henüz eksikliklerini giderememişti. Buna rağmen, Türk ordusu ile üstün durumdaki Yunan kuvvetleri arasında Sakarya Irmağı'nın doğusunda yoğun çarpışmalar başladı. Cephedeki savaş geniş alana yayıldı. Bu durumu gören Mustafa Kemal Türk ordularına **"Hattı müdafaa yoktur, sathı müdafaa vardır. O satıh, bütün vatandır."** diyerek yeni bir savaş taktiği uygulattı. Verilen emir, Türk ordusunu coşturdu ve Sakarya Meydan Savaşı'nın sonucunu belirledi.

Yukarıdaki metin incelendiğinde aşağıdaki yargılardan hangisi çıkarılamaz?

- A) Yunan ordusu savaş başladığında Türk ordusundan daha üstün bir durumdaydı.
- B) Savaşta iki taraf da var güçleri ile mücadele etmişlerdir.
- C) Sakarya Meydan Savaşı Türk ordusunun taarruzu ile başlamıştır.
- D) Mustafa Kemal'in liderlik özelliği savaşın sonucuna etki etmiştir.



Din Kültürü ve Ahlak Bilgisi Soruları

1.

Kandilli Rasathanesi, 04.04.2020 Cumartesi günü saat 22.30'da büyüklüğü 3.4 derinliği ise 11.4 km olan bir deprem meydana geldiğini duyurdu.

"Yeryüzünde yuku bulan ve sizin başınıza gelen herhangi bir musibet yoktur ki, biz onu yaratmadan önce, bir kitapta yazılmış olmasın. Şüphesiz bu, Allah'a göre kolaydır."

(Hadîd Suresi, 22. ayet)

Verilen gazete haberinin konusu ve ayetteki altı çizili kelimeler aşağıdaki kavramların hangisi ile doğrudan ilgilidir?

- A) Kader B) Kaza C) Tevekkül D) Rızık

2.

4. Uluslararası Yeşilay Karikatür Yarışması, "Bağımlılıklarla Mücadelenin 100. Yılında Sağlıklı Yaşamın Önemi" temasıyla düzenleniyor. Yeşilay'ın kuruluşunun 100. yıldönümünde yeni bir ödülün de verileceği yarışmaya başvurular 14 Şubat'a kadar devam ediyor.

Bu haber metni İslam dininin korunmasını istediği temel ilkelerden hangisi ile doğrudan ilişkilidir?

- A) Dinin B) Neslin C) Malın D) Aklın

3. Sağlık Bakanlığı salgına karşı alınması gereken hijyen tedbirlerini görselleştirirerek vatandaşların bu konuda önlemlerini titizlikle almalarını istedi. Buna göre bakanlık, salgından korunmanın en önemli yolunun hijyenden ve sosyal mesafe kurallarının uygulanmasından geçtiğini vurguladı.

Bu metin İslam dininin temel gayelerinden hangisinin korunması ile doğrudan ilişkilidir?

- A) Canın B) Neslin C) Malın D) Aklın

4. İnsan davranışları zorunlu ve seçime dayalı olmak üzere iki kısımdır. İnsanın zorunlu olarak sahip olduğu her durum külli irade kavramı ile ilişkilidir. İnsanın seçimine dayalı olan durumlar ise cüzi irade kavramı ile açıklanır.

Bu açıklamalara göre insanla ilgili aşağıda verilen örneklerden hangisi diğerlerinden farklıdır?

- A) Ten renginin farklı olması
- B) Meslek seçimlerinin farklı olması
- C) Irklarının farklı olması
- D) Cinsiyetlerinin farklı olması

5. Firavun olarak bilinen Mısır kralları, eski Mısır'ın çok tanrılı batıl dininde, kendilerini ilah olarak kabul etmekteydiler. Allah, hem Mısır halkının hak dine karşı batıl bir sistemi benimsemiş olduğu, hem de İsrailoğulları'nın köleleştirildiği bir dönemde, Hz. Musa'yı elçisi olarak Mısır kavmine göndermişti. Ancak eski Mısırlılar başta Firavun ve çevresi olmak üzere Hz. Musa'nın hak dine davetine rağmen putperest inançlarından vazgeçmiyorlardı. Hz. Musa, Firavun'a ve yakın çevresine sakınmaları gereken şeyleri açıklamış ve onları Allah'ın azabına karşı uyarıyordu. Buna karşılık onlar isyan edip Hz. Musa'yı delilik, büyücülük ve yalancılıkla suçlamışlardı.

Bu metin ile aşağıdaki ayetlerden hangisi doğrudan ilişkili değildir?

- A) "Firavun'un karısı, 'O, senin ve benim göz aydınlığımız, muradımız olsun! Onu öldürmeyin, belki bize faydası dokunur veya onu evlât ediniriz.' demişti. Onlar işin farkında değillerdi."
(Kasas suresi, 9. ayet)
- B) "Medyen suyuna vardığında orada hayvanlarını sulayan bir grup insanla karşılaştı."
(Kasas suresi, 23. ayet)
- C) "Kârûn, zineti ve görkemi içerisinde kavminin karşısına çıktı. Dünya hayatını arzu edenler, 'Keşke Kârûn'a verilen (servet) gibi bizim de (servetimiz) olsaydı. Şüphesiz o büyük bir servet sahibidir.' dediler."
(Kasas suresi, 79. ayet)
- D) "Kardeşim Harun'un dili benimkinden daha düzgündür. Onu da benimle birlikte, beni doğrulayan bir yardımcı olarak gönder."
(Kasas suresi, 34. ayet)

6. Hz. Ali kader ve kaza ile ilgili kendisine yöneltilen bir soru üzerine her şeyin kader ve kazaya göre gerçekleştiğini ve hiçbir olayın bunun dışında kalmadığını belirttikten sonra kaderin insanları mecbur bırakmadığını ve fiillerini hürriyet içinde gerçekleştirdiklerini söylemiş, aksi takdirde mükâfat veya ceza uygulamasının adâlet ilkesiyle bağdaşmayacağını ve son olarak da kaderin ilâhî bir sır olma özelliğini koruduğunu bildirmiştir.

Hız. Ali verdiği cevap ile aşağıdaki kavramlardan hangisini vurgulamaktadır?

- A) Tevekkül
- B) Zekât
- C) Cüzi irade
- D) Rızık

İngilizce Soruları

1.

I'd like lentil soup first.
Then I'll have meatballs
and finally chef's special
dessert would be great.



According to the text Andy is at

- A) the museum B) a concert C) a restaurant D) the school

2.

I have two tickets for tonight's concert.
Would you like to come with me?



Which of the following is Adam's excuse for NOT going to the concert?

- A) Of course, I'm coming with you..
B) Don't you know I'm coming with you.
C) Thank you for inviting me. I think I can make it.
D) I'd love to but I must help my sister's project.

3.



Choose the correct option to complete the dialogue.

- A) OK. That's fine.
- B) Let's go.
- C) I'm sorry.
- D) I'm not sure.

4. **Jack** : What do you usually do with your friends in your free time?

Mary : Oh! We sometimes watch movies together, but not horror films. We especially like Sci-Fi movies. Playing chess and reading book are also our free time activities. We like doing shopping. We do it on Fridays and Sundays.

Jack : Really? You must be quite enjoyed.

Mary : We do. Why don't you come sometime?

Jack : I'd love to. Thank you.

How often do Mary and her friends do shopping?

- A) Two times a week
- B) All the time
- C) Once a week
- D) Never

5. Sandra likes watching all kinds of sports. But when she does sports, her motto is: "Be safe!" She always says: "The sports I do shouldn't be dangerous. I'm not an adrenalin seeker. Team sports can be amusing but I prefer doing individual sports. The game I play must be on land because I don't know how to swim."

Of all sports below, which one does Sandra prefer?



Perfect Pumpkin Pie

- 1- Finally, put your pumpkin pie into oven and bake it about 50 minutes.
- 2- Second, sprinkle the dough in small clumps and place over the bottom of plate.
- 3- After 50 minutes your pie is ready. Enjoy it!
- 4- First, stir the butter, oil, sugar, and salt together in a bowl and then add the flour and stir until a soft dough forms.
- 5- Then heat the oven to 180⁰ C and place all of the ingredients over the crust and smooth it.

Daisy wants to make "Perfect Pumpkin Pie" but the order of the recipe is not true. **Which order is the RIGHT one?**

- A) 4-2-5-1-3
B) 4-2-3-5-1
C) 5-3-2-4-1
D) 3-2-1-5-4

7. Which of these do you use for baking?



8.

Good morning.
The Shoe Company



.....
.....

Yes, certainly.



Hello. Could I speak to
Sally, please?

Oh, well, can I leave a
message, please?

Please tell her I will call her
back tomorrow.



Choose the **CORRECT** option to complete the conversation.

- A) Can you tell me your name, sir?
- B) Yes, you could.
- C) I'm sorry. She is in a meeting.
- D) This is not her company.

9.

Hi, Amy.
What's up?

Are you coming to
the meeting tomorrow?

Are you coming to
the meeting tomorrow?

OK.
See you there. Bye.

I'm OK.
Thank you.

.....
Sure. I'll be there
at 10 p.m.



Choose the **CORRECT** option to complete the conversation.


- A) I'm sorry. I can't hear you. It's bad line. Could you repeat that?
- B) Yes, I know the meeting. I'm coming.
- C) Is there a meeting tomorrow? What is it about?
- D) When is the meeting?

10. A recent research shows that using the Internet is increasing. According to the research, the reason for using the Internet is not the same for everybody. Some people use it to connect with their friends and families. Some use it to find, create or share interesting photos and videos. Most teenagers play online games and they sometimes use it as a study tool for school.

According to the text,

- A) many teenagers play online games.
- B) everybody use the Internet in the same way.
- C) people use the Internet only for banking.
- D) the Internet usage changes people.

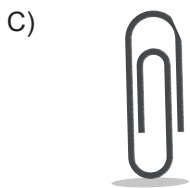
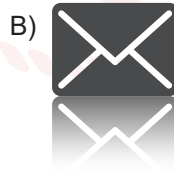

11.



What does the illustration tell you?

- A) You should eat while using computer.
- B) You can use the Internet whenever you want.
- C) Don't get addicted to the Internet.
- D) Don't worry about the Internet.

12. Ayşe wants to add a file to her mail. Which icon should she click?



13. **Adrian** : Have you got a plan for this Sunday?

Clara : No, nothing very important. Why?

Adrian : I have two tickets for the movie you want to watch. Would you like to come with me?

Clara : -----

Adrian : OK. Then I'll take you at 10 a.m.

Which of the following does NOT complete the conversation above?

- A) That sounds great!
- B) I'd love to!
- C) That's not a good idea.
- D) Sure. Why not?

14. **Waiter** : Hello! -----

Customer : Yes, I'd like to have some tomato soup with cheese first.

Waiter : OK. What would you like to have as a main course?

Customer : I want meatballs and salad, please.

Waiter : Sure. Anything else?

Customer : No. Thank you.

Which of the following completes the dialogue?

- A) Can I take your order, please?
- B) I am sorry sir. We are closing.
- C) Why don't you join us?
- D) You are not allowed to sit there.

15. **Lilly** : Are you busy on tomorrow afternoon?

Ashley : No, not at all. Why?

Lilly : --- ?

Ashley : Yes, that would be great. I miss him very much. Can you pick me up at 6 p.m.?

Lilly : Yes, of course.

Which of the following completes the dialogue?

- A) What about eating together
- B) Why don't we play basketball
- C) Shall we go to the bookstore
- D) Would you like to visit grandpa

16. **Dennis** : I --- listen to rock music because I love it. Do you like it?

Jack : No. I can't stand listening to rock music. I --- listen to it.

Dennis : That's not good. Because I listen to it whenever I can.

Jack : You should use your headphones then.

Which of the following completes the dialogue?

- A) rarely / often
- B) always / never
- C) sometimes / usually
- D) never / sometimes

17. **Sam** : --- ?

William : I play basketball with my friends on Saturday and Sunday afternoon.

Sam : That's great. Can I play with you?

William : Of course, you can.

Which of the following completes the dialogue?

- A) Which sports do you do on weekdays
- B) What do you do at weekends
- C) What time do you play basketball
- D) Where do you want to go tonight

18. a - Wash all the fruits.

b - Cut them into small pieces.

c - Squeeze some lemon on them.

d - Put the pieces into a bowl.

e - Peel them.

Which of the following is TRUE process of making a fruit salad?

- A) a, e, b, d, c
- B) c, b, a, d, e
- C) e, a, c, d, b
- D) b, e, a, c, d

19. **Mike** : Hello, this is Mike. --- ?

Sandra : --- .

Tommy : Hi, Mike. I am Tommy. How are you?

Mike : I am fine. Thank you. We are going on a picnic on Sunday. Would you like to join us?

Tommy : I am sorry. I can't. I must study on my project. Maybe another time.

Mike : OK. See you later. Bye.

Tommy : Bye.

Which of the following completes the dialogue?

- A) Could you call me, please / He is not at home now
- B) Tommy is calling. / Don't hang up the phone, please
- C) May I speak to Tommy, please / Hang on a second, please
- D) Would you like to leave a message / I'm afraid he isn't available

20. **Jerry** : Hello. May I speak to Tom, please?

Secretary : --- ?

Jerry : It's Jerry.

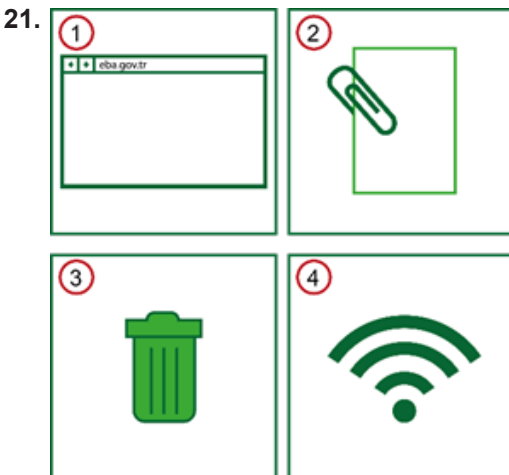
Secretary : I am sorry but he isn't available at the moment. Would you like to leave a message for him?

Jerry : No, thank you. Goodbye!

Secretary : Goodbye!

Which of the following completes the dialogue?

- A) What can I do for you
- B) Could you ask him call me
- C) Do you want me to text him
- D) Who is calling



Which of the following matchings is FALSE?

- A) Number 1 is a web browser icon.
- B) Number 2 is search icon.
- C) Number 3 is delete icon.
- D) Number 4 is connection icon.

CEVAP ANAHTARI

TÜRKÇE

1. B
2. D
3. D
4. C
5. C
6. B
7. B
8. D
9. A
10. B

MATEMATİK

1. C
2. C
3. D
4. C

FEN BİLİMLERİ

1. D
2. B
3. B
4. B
5. C
6. C
7. B

T.C. İNKILAP TARİHİ VE ATATÜRKÇÜLÜK

1. C
2. A
3. D
4. C
5. C
6. C
7. A
8. D
9. C
10. D
11. B
12. C

DİN KÜLTÜRÜ VE AHLAK BİLGİSİ

1. B
2. D
3. A
4. B
5. C
6. C

İNGİLİZCE

1. C
2. D
3. C
4. A
5. D
6. A
7. C
8. C
9. A
10. A
11. C
12. C
13. C
14. A
15. D
16. B
17. B
18. A
19. C
20. D
21. B