



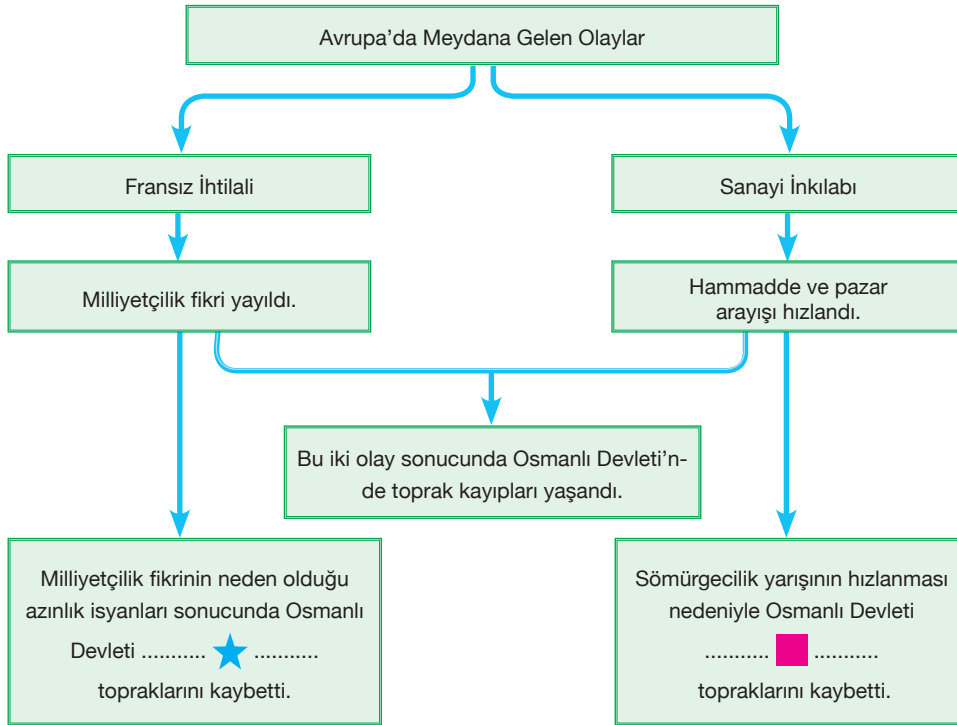
3. Osmanlı Devleti'nin Trablusgarp Savaşı'nda bölgeye askeri yardım gönderememesinde,

- I. İngilizlerin Mısır'ı işgal altında tutması,
- II. Trablusgarp sahillerinin İtalyan kontrolünde olması,
- III. Osmanlı donanmasının eski gücünü kaybetmesi

durumlarından hangilerinin etkili olduğu söylenebilir?

- A) Yalnız I                      B) I ve III                      C) II ve III                      D) I, II ve III

4.



Diyagramdaki bilgiler dikkatli bir şekilde takip edildiğinde ★ ve ■ ile gösterilen yerlere aşağıdakilerden hangisi getirilirse doğru olur?

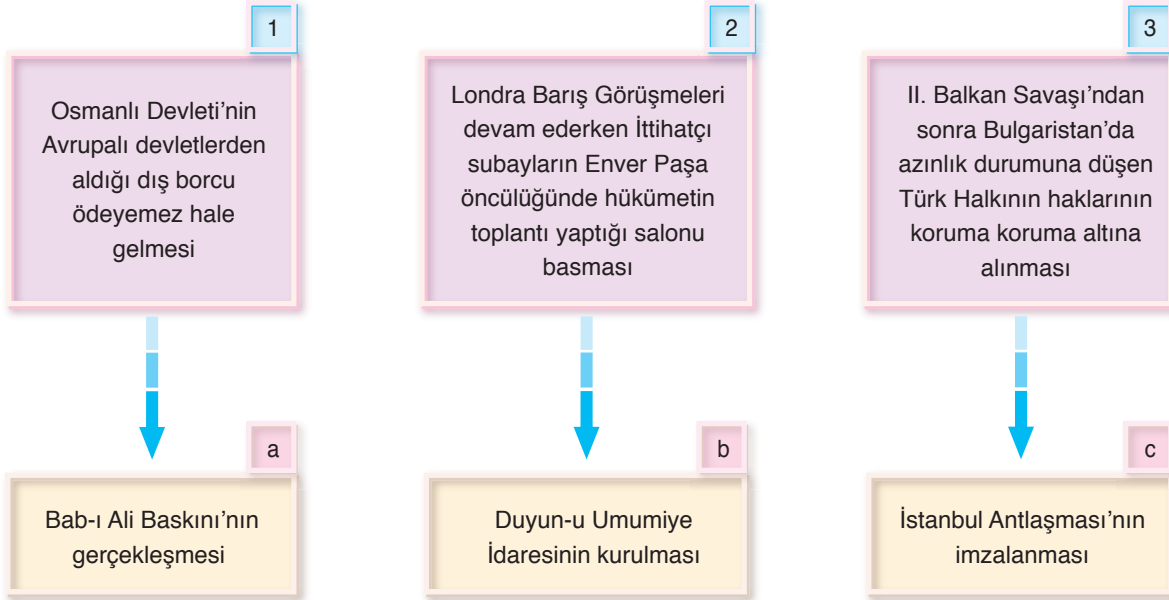
- |    |            |             |
|----|------------|-------------|
|    | ★          | ■           |
| A) | Fas        | Tunus       |
| B) | Cezayir    | Yunanistan  |
| C) | Mısır      | Trablusgarp |
| D) | Arnavutluk | Cezayir     |

5. ♦ İstanbul Antlaşması  
♦ Atina Antlaşması

II. Balkan Savaşı'ndan sonra imzalanan yukarıdaki antlaşmalarda Osmanlı Devleti'nin temel amacı aşağıdakilerden hangisidir?

- A) Balkanlarda kalan Türklerin haklarını koruma altına almak  
B) Girit Adası'nın geleceğini belirlemek  
C) Edirne ve Kırklareli'nin durumunu netleştirmek  
D) Dış borçlar sorununu halletmek

6 ve 7. Soruları aşağıdaki bilgilere göre cevaplayınız.



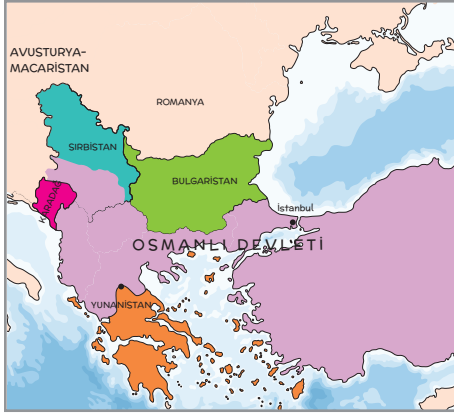
6. Yukarıdaki kutucuklarda bilgi-olay eşleştirilmesi hangi seçenekte doğru olarak yapılmıştır?

- A) 1-b                      B) 1-a                      C) 1-c                      D) 1-b  
2-a                      2-b                      2-a                      2-c  
3-c                      3-c                      3-b                      3-a

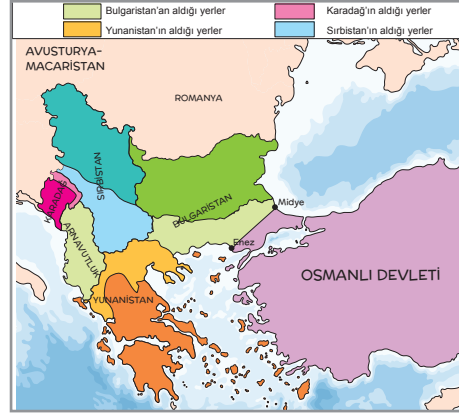
7. Harflendirilerek gösterilen olayların Osmanlı Devleti'nde hangi alanları doğrudan etkilediği söylenemez?

- A) Siyasi                      B) Ekonomik                      C) Sosyal                      D) Dini

8.



I. Balkan Savaşı öncesinde Balkanlar



I. Balkan Savaşı sonrasında Balkanlar

Yukarıdaki iki harita birlikte değerlendirildiğinde, sınırlarını Ege Denizi'ne kadar ulaştırarak savaştan en karlı çıkan devlet aşağıdakilerden hangisidir?

- A) Yunanistan      B) Bulgaristan      C) Romanya      D) Karadağ

9.

- 1 ..... Osmanlı Devleti'ne karşı Balkan birliğinin oluşturulması
- 2 ..... Osmanlı Devleti'nin Edirne ve Kırklareli'yi geri alması
- 3 ..... Osmanlı Devleti'nin Batı sınırının Midye - Enez hattı olması
- 4 ..... Londra Antlaşması ile savaşın sona ermesi
- 5 ..... Romanya'nın Bulgaristan'a karşı savaşması

Yukarıdaki bilgilerin ilişkili olduğu olaylar aşağıdakilerin hangisinde doğru olarak verilmiştir?

- A) I. Balkan Savaşı: 1, 2, 3  
II. Balkan Savaşı: 4, 5
- B) I. Balkan Savaşı: 4, 5  
II. Balkan Savaşı: 1, 2, 3
- C) I. Balkan Savaşı: 1, 3, 4  
II. Balkan Savaşı: 2, 5
- D) I. Balkan Savaşı: 1, 3, 5  
II. Balkan Savaşı: 2, 4

10.

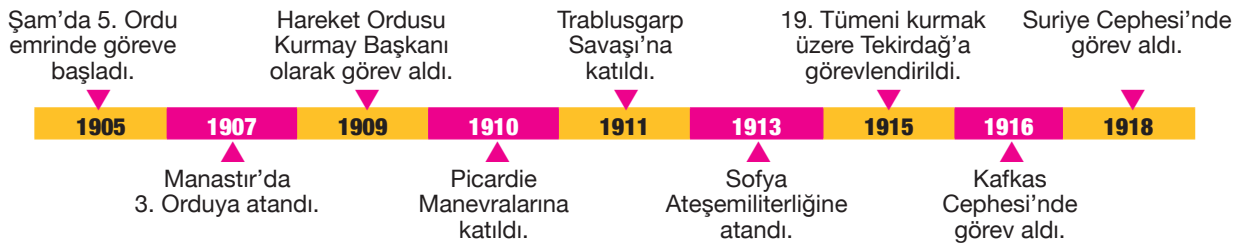


Osmanlı Devleti'nin son dönemlerinde kaybettiği topraklar yandaki Dünya haritasında numaralandırılmıştır.

Numaralandırılarak gösterilen bu toprakların kaybedilmesine neden olan anlayışlar aşağıdakilerin hangisinde doğru olarak gruplandırılmıştır?

	Sömürgecilik	Milliyetçilik
A)	I, II	III, IV
B)	III, IV	I, II
C)	II, III	I, IV
D)	I, IV	II, III

11. Ahmet Öğretmen "Cepheden Cepheye Mustafa Kemal" konusunu anlatırken aşağıdaki çizelgeden yararlanmıştır.



Buna göre Ahmet Öğretmen'in yararlandığı çizelgede Mustafa Kemal ile ilgili;

- I. Derne ve Tobruk'ta İtalyanlara karşı yerli halkı teşkilatlandırdığı,
- II. Meşrutiyet rejiminin devamlılığını sağlamaya çalıştığı,
- III. Milli Mücadele'yi başlatmak için Samsun'a çıktığı,
- IV. Muş ve Bitlis'i Ruslardan geri aldığı

ifadelerinden hangilerini kullandığı söylenebilir?

A) I ve IV

B) I, II ve IV

C) I, II ve III

D) II, III ve IV