

1.

Garp Ocakları Sönerken

Osmanlılar Kuzey Afrika'daki Trablusgarp, Tunus ve Cezayir için "garp ocakları" tabirini kullanırlardı Tunus ve Cezayir Fransa tarafından işgal edilmiş, Osmanlı Devleti'nin elinde Trablusgarp kalmıştı. Siyasi birliğini geç tamamladığı için sömürge yarışında geride kalan İtalya, gelişen sanayisine ham madde ve pazar bulabilmek için Osmanlı Devleti'nin Kuzey Afrika'daki son toprağı olan Trablusgarp'a saldırdı (29 Eylül 1911). Trablusgarp Savaşı devam ederken Balkanlarda savaş çıktı. İki ateş arasında kalan Osmanlı Devleti İtalya ile olan savaşını sona erdirmek zorunda kaldı. İmzalanan Uşi Antlaşması ile Trablusgarp İtalya'ya bırakıldı.

SORU - 1

Metinde verilen bilgilere göre İtalya'nın Trablusgarp'ı işgal etmesinin temel nedeni hangi olayın sonuçları ile ilişkilendirilebilir?

- A) Coğrafi Keşifler B) Rönesans C) Reform D) Sanayi İnkılabı

SORU - 2

Metinde verilen bilgilere göre aşağıdaki yerlerden hangisinin kaybedilmesi ile Osmanlı Devleti'nin Kuzey Afrika egemenliği sona ermiştir?

A) Tunus

B) Cezayir

C) Trablusgarp

D) Mısır

Halil				
1	●	B	C	D
2	A	B	●	D

Buğra				
1	A	B	C	●
2	A	B	●	D

Dilay				
1	A	●	C	D
2	A	B	●	D

Fatih				
1	A	B	C	●
2	●	B	C	D

Yukarıdaki öğrencilerin işaretlediği cevaplar incelendiğinde her iki soruyu da doğru cevaplandıran öğrenci hangisidir?

A) Fatih

B) Dilay

C) Halil

D) Buğra

2.



Yukarıda tarih şeridinde "?" ile gösterilen yere aşağıdakilerden hangisi getirilmelidir?

A) Londra Antlaşması'nın imzalanması

B) II. Balkan Savaşı'nın başlaması

C) I. Dünya Savaşı'nın sona ermesi

D) Uşi Antlaşması'nın imzalanması

3. ★ Derne
 ■ Anafartalar
 ● Tobruk
 ◆ Conkbayırı

Yukarıdaki cephelerden hangilerinde Yüzbaşı Mustafa Kemal Paşa, sömürgeciğe karşı ilk askeri başarısını kazanmıştır?

- A) ■, ● B) ■, ◆ C) ★, ● D) ★, ◆

4. Aşağıdaki haritada Trablusgarp Savaşı sırasındaki durum gösterilmiştir.



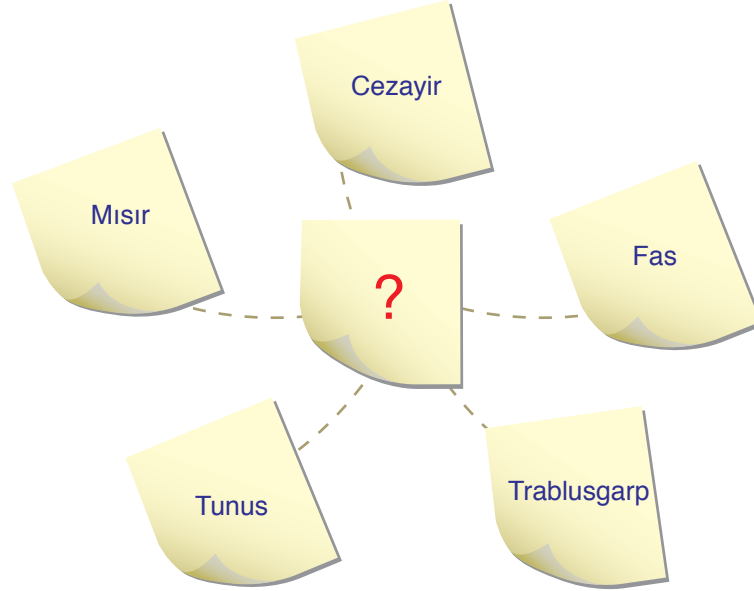
Haritadan yararlanarak, Trablusgarp Savaşı sırasında Osmanlı Devleti'nin durumu hakkında,

- I. Kuzey Afrika Kıt'ası ile olan irtibatı tamamen sona ermiştir.
- II. Ege Denizi'nde İtalyan tehdidi ile karşı karşıya kalmıştır.
- III. Mısır'ın İngiltere kontrolünde olması Trablusgarp ile bağlantı kurmasını kolaylaştırmıştır.
- IV. İtalya'ya karşı Yunanistan ile işbirliği yapmıştır.

yargılarından hangilerine ulaşılabilir?

- A) Yalnız II B) I ve II C) III ve IV D) I, II ve III

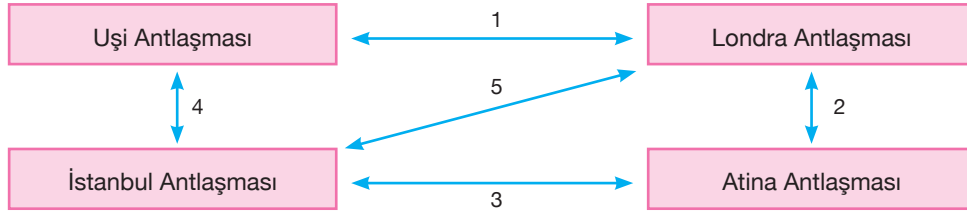
5. Aşağıdaki görselde Osmanlı Devleti'nin son dönemlerde kaybettiği topraklar gösterilmiştir.



Osmanlı Devleti'nin kaybettiği bu topraklar dikkate alındığında görsele verilecek en uygun başlık aşağıdakilerden hangisidir?

- A) Garp Ocakları Sönerken
B) Balkan Savaşları: Bir Facianın Hikayesi
C) Edirne Düşerken
D) Mustafa Kemal Görev Başında

6.



Osmanlı Devleti'nin imzalamış olduğu antlaşmalar arasındaki benzer ilişki yukarıda numaralandırılarak gösterilmiştir.

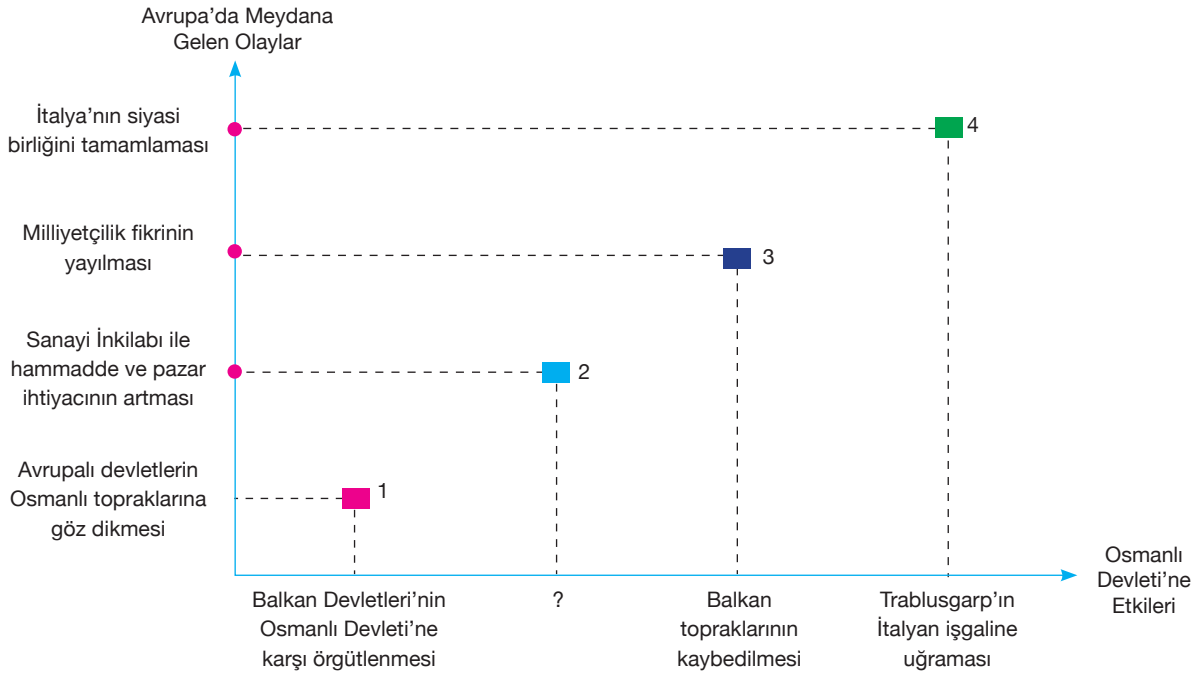
Buna göre,

- I. 1 → 20. yüzyılda imzalanmışlardır.
- II. 2 → Balkan Savaşlarının sonunda imzalanmışlardır.
- III. 3 → Balkanlarda kalan Türklerin haklarını güvence altına almışlardır.
- IV. 4 → Osmanlı halifesinin siyasi gücünden yararlanılmaya yönelik maddeler içermişlerdir.
- V. 5 → Osmanlı Devleti'nin Batı sınırının şekillenmesinde etkili olmuşlardır.

yargılarından hangilerine ulaşılmaz?

- A) Yalnız IV
B) I ve II
C) I, II ve III
D) II, III ve IV

7.



Yukarıdaki grafikte Avrupa'da meydana gelen olaylar ve bu olayların Osmanlı Devleti'ne olan etkileri gösterilmiştir.

Buna göre “?” ile gösterilen yere aşağıdakilerden hangisi getirilemez?

- A) Garp ocaklarının kaybedilmesi
- B) Tunus ve Cezayir'in Fransız işgaline uğraması
- C) Mısır'ın İngiliz sömürgesine dönüşmesi
- D) Midye-Enez hattının batısındaki Balkan topraklarının kaybedilmesi

8. Osmanlı Devleti'nin I. Balkan Savaşı'nı kaybetmesinde,

- I. aynı anda dört farklı cephede savaşılması,
- II. Osmanlı ordusundaki subaylar arasında siyasi çekişmelerin yaşanması,
- III. düzenli bir haberleşme sisteminin kurulamaması,
- IV. Yeniçeri ordusunun disiplinsiz davranışlar sergilemesi

durumlarından hangilerinin etkili olduğu söylenebilir?

- A) I ve II
- B) II ve III
- C) III ve IV
- D) I, II ve III