

## Milli Uyanış: Yurdumuzun İşgaline Tepkiler - 2 (Cemiyetler)

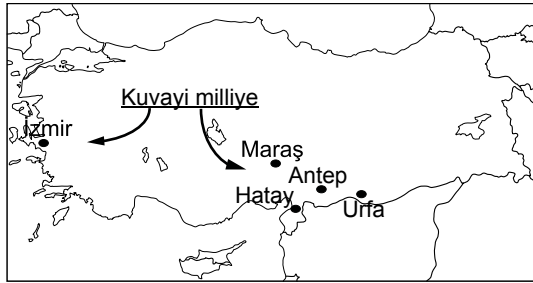
1.

1. Dünya Savaşı'ndan sonra
↓
Ordunun terhis edilmesi
↓
Silahlara el konulması
↓
Hükümetin işgallere kayıtsız olması
=
?

Verilen tabloda sıralanan nedenlerin "?" ile belirtilen yerde hangi sonucu doğurduğu söylenebilir?

- A) Manda - himayenin kabulü  
B) İnkılâpların yapılması  
C) Kuvayimilliyenin kurulması  
D) Mondros Ateşkes Antlaşması'nın imzalanması

2.



Haritada verilen yerler ilk işgal edilen yerlerdendir. Bu bölgeler aynı zamanda Kuvayimilliyenin ilk ortaya çıktığı yerlerdir.

Bu durum aşağıdakilerden hangisinin kanıtıdır?

- A) Türk milleti yurdunu savunmakta kararlıdır.  
B) Cemiyetler, başarısız olmuştur.  
C) Türk ordusu tamamen yok edilmiştir.  
D) İtilaf Devletleri işgal hareketlerinde bulunmamıştır.

3. Millî Cemiyetler;

1. Halkı bilinçlendirme  
2. Direnişi örgütleme  
3. İstanbul Hükümetiyle ortak davranma

gibi faaliyetlerden hangilerini gerçekleştirmişlerdir?

- A) Yalnız 1.                      B) 1. ve 2.  
C) 2. ve 3.                      D) 1. 2. ve 3.

4. Kuvayimilliyeye ile ilgili aşağıda verilen bilgilerden hangisi yanlıştır?

- A) Tek bir merkezden yönetilmemiştir.  
B) Düzensiz birliklerden oluşmuştur.  
C) Düşman ilerleyişini durdurmuşlardır  
D) Yunanlılara karşı mücadele etmişlerdir.

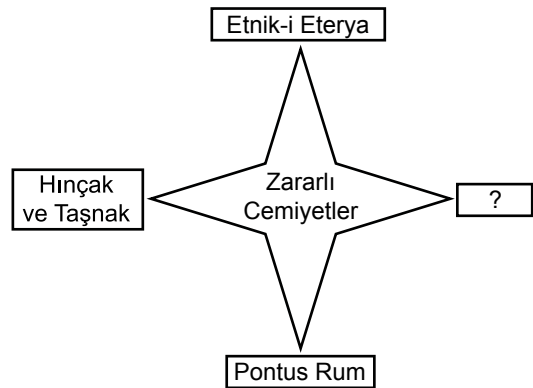
5.



Verilen harita üzerinde kurulan cemiyetlere bakarak aşağıdaki yargılardan hangisine ulaşılabilir?

- A) Türk milleti işgallere karşı direnişe geçmiştir.  
B) Farklı bölgelerde bağımsızlık için mücadele edilmiştir.  
C) Cemiyetler bölgesel amaçlı kurulmuşlardır.  
D) Cemiyetler zararlı faaliyette bulunmuşlardır.

6.



Verilen şekilde "?" yere aşağıdakilerden hangisi gelmelidir?

- A) Trakya Paşaalı  
B) Kilikyalılar Cemiyeti  
C) Milli Kongre  
D) Mavri Mira

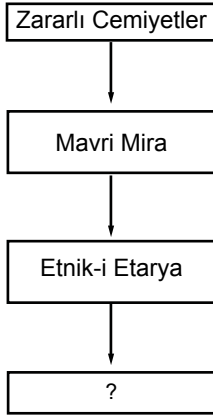
7.

Doğu Anadolu'nun Ermenilere verilmesini engellemek için mücadele etti.	⇒	▲
Karadeniz'de faaliyet gösteren ve Pontus Devleti'ni kurmak isteyen Rumlara karşı mücadele etti.	⇒	●
Çukurova ve çevresindeki Fransız ve Ermeni işgallerine karşı kuruldu.	⇒	■

Verilen tablodaki ▲, ●, ■ şekillerine karşılık gelen cemiyetler, aşağıdakilerden hangisinde doğru sıralanmıştır?

	Doğu Anadolu Müdafaa-i Hukuk	Trabzon Muhafaza-i Hukuk	Kilikyalılar
A)	▲	●	■
B)	▲	■	●
C)	■	●	▲
D)	●	▲	■

8.



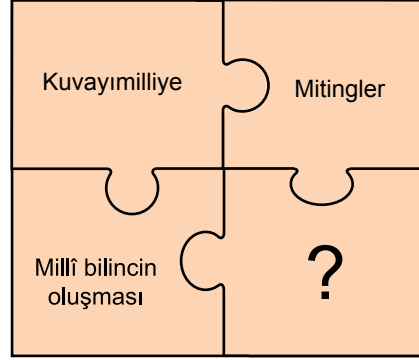
Verilen şemada "?" ile gösterilen yere aşağıdakilerden hangisi gelmelidir?

- A) Redd-i İlhak
- B) Hınçak - Taşnak
- C) Kilikyalılar
- D) Trabzon Muhafaza-i Hukuk

9. Aşağıda verilen cemiyetlerden hangisinin yaptığı faaliyet diğerlerinden farklıdır?

- A) Doğu Anadolu Müdafaa-i Hukuk
- B) İzmir Müdafaa-i Hukuk
- C) Millî Kongre
- D) Kilikyalılar

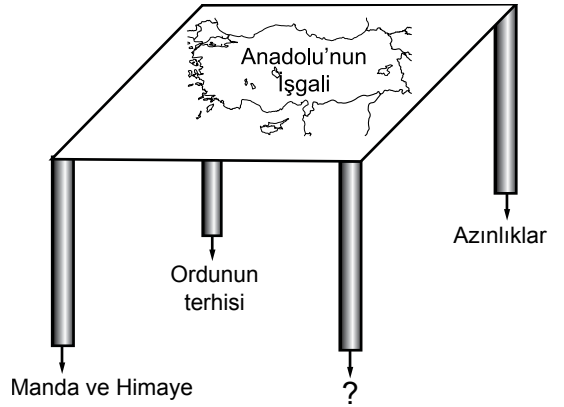
10.



Bağımsızlık yapbozunun tamamlanması için "?" yere aşağıdakilerden hangisi yazılmalıdır?

- A) Millî Cemiyetler
- B) İnkılaplar
- C) Sevr Barış Antlaşması
- D) Wilson İlkeleri

11.



Anadolu'nun işgalini kolaylaştıran unsurların gösterildiği şekilde "?" olan yere aşağıdakilerden hangisi gelmelidir?

- A) Millî Cemiyetler
- B) İstanbul Hükûmeti
- C) Mitingler
- D) Kuvayımiliye



Adı : .....  
Soyadı : .....  
Sınıf : .....  
No : .....

1	2	3	4	5	6	7	8	9	10	11	12
A	A	A	A	A	A	A	A	A	A	A	A
B	B	B	B	B	B	B	B	B	B	B	B
C	C	C	C	C	C	C	C	C	C	C	C
D	D	D	D	D	D	D	D	D	D	D	D

Doğru : .....  
Yanlış : .....  
Boş : .....  
Puan : .....