

# 8. SINIF

## SÖZEL BÖLÜM

# 4.

## İZLEME SINAVI

Düşlerinize Yaklaştıran Köprüler kuruyoruz.

# KÖPRÜ

Projesi

Kurslarda Öğretimin Planlanması ve Rehberlikte Üstünleşme

### AÇIKLAMALAR

1. Bu sınavda **Türkçe** (20 soru) - **T.C. İnkılap Tarihi ve Atatürkçülük** (10 soru) - **Din Kültürü ve Ahlak Bilgisi** (10 soru) - **İngilizce** (10 soru) olmak üzere dört bölüm bulunmaktadır.
2. Sınavın süresi **75 dakikadır**.
3. Her sorunun sadece bir doğru cevabı vardır. Bir soru için birden çok cevap yeri işaretlenmişse o soru yanlış cevaplanmış sayılacaktır.
4. Puanlama; her test için yanlış cevap sayısının **üçte biri, doğru cevap sayısından çıkarılarak** elde edilecek geçerli cevaplar üzerinden yapılacaktır.
5. Cevaplamaya, istediğiniz testin sorusundan başlayabilirsiniz. Cevabını bilmediğiniz sorular üzerinde fazla zaman kaybetmeden diğer sorulara geçiniz. Zamanınız kalırsa bu sorulara daha sonra dönebilirsiniz.



SİVAS MİLLÎ EĞİTİM  
MÜDÜRLÜĞÜ



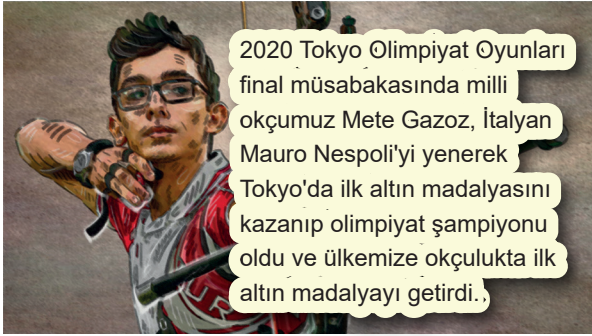
## İZLEME SINAVI - 4

1. Bazı tedbirler kârdan çok zarar getirir. Bu konuda kendimden söz etmek gerekirse hayat boyunca hangi konuda olursa olsun önceden düşündüğüm ve planladığım hiçbir şey hayal ettiğim gibi olmadı. Dolayısıyla hayatı her zaman akışına bırakmak gerektiğini geç de olsa öğrenmiş bulunmaktayım.

**Bu cümledeki numaralanmış sözcüklerin anlamca karşılıkları aşağıdakilerin hangisinde verilmiştir?**

1	2	3
A) önlemler	süresince	olduğu gibi kabullenmek
B) durumlar	bölümünde	etki etmemek
C) kararlar	içerisinde	kontrolü altına almak
D) hareketle	sırasında	uygun zamanı beklemek

2.



**Yukarıdaki cümleden hangisi kesin olarak çıkarılabilir?**

- A) Mete Gazoz daha önceden olimpiyat oyunlarına katılmış ve madalya kazanmıştır.  
B) Olimpiyat oyunlarında Mete Gazoz'u en çok zorlayan İtalyan rakibi olmuştur.  
C) Mete Gazoz okçulukta Türkiye'ye olimpiyat tarihindeki ilk altın madalyayı kazandırmıştır.  
D) Tokyo Olimpiyat Oyunları'nda ülkemize ilk altın madalyayı Mete Gazoz getirmiştir.

3. ► İshak Paşa Sarayı, Osmanlının Anadolu'da günümüze ulaşan tek saray yapısı olarak kabul edilir.  
► İshak Paşa Sarayı, dünyada kaloriferli ısınma sisteminin ilk kez kullanıldığı yerdir.

**Bu iki cümlenin anlamca doğru bir biçimde birleştirilmiş hâli aşağıdakilerden hangisidir?**

- A) Anadolu'da günümüze ulaşabilen tek saray yapısı olarak kabul edilen İshak Paşa Sarayı, Osmanlının dünyada kaloriferli ısınma sistemini ilk kez kullandığı yerdir.  
B) Anadolu'da kaloriferli ısınma sisteminin ilk kez kullanıldığı yer olan İshak Paşa Sarayı, Osmanlının dünyada günümüze ulaşabilen tek saray yapısı olarak kabul edilir.  
C) İshak Paşa Sarayı, kaloriferli ısınma sistemini dünyada ilk kez kullanan Osmanlının günümüze ulaşabilen tek saray yapısı olarak kabul edilir.  
D) Dünyada kaloriferli ısınma sisteminin ilk kez kullanıldığı yer olan İshak Paşa Sarayı, Osmanlının Anadolu'da günümüze ulaşabilen tek saray yapısı olarak kabul edilir.

4. İnsanın olanağı varsa eşi, çocuğu, parası ve sağlığı olmalı ama insan mutluluğunu yalnız bunlara bağlamamalı. Kendimize dükkânın arkasında yalnız bizim için bağımsız bir köşe ayırıp orada gerçek özgürlüğümüzü, kendi sultanlığımızı kuralmalıyız. Orada yabancı hiçbir konuşma yer vermeksizin kendi kendimizle her gün baş başa verip dertleşmeliyiz; eşimiz, çocuğumuz, servetimiz, adamlarımız yokmuş gibi konuşup gülmeliyiz. Öyle ki hepsini yitirmek felaketine uğrayınca onlarsız yaşamak bizim için yeni bir şey olmasın. Kendi içine çevrilebilen bir ruhumuz var, kendi kendine yoldaş olabilir, kendi kendisiyle çekişebilir. Yalnız kalınca sıkılmaktan, ne yapacağımızı bilememekten korkmamalıyız.

**Yukarıdaki metnin türü aşağıdakilerden hangisidir?**

- A) Fıkra  
B) Deneme  
C) Eleştiri  
D) Makale

5.

## Dünyada 781 milyon yetişkin okuma yazma bilmiyor.



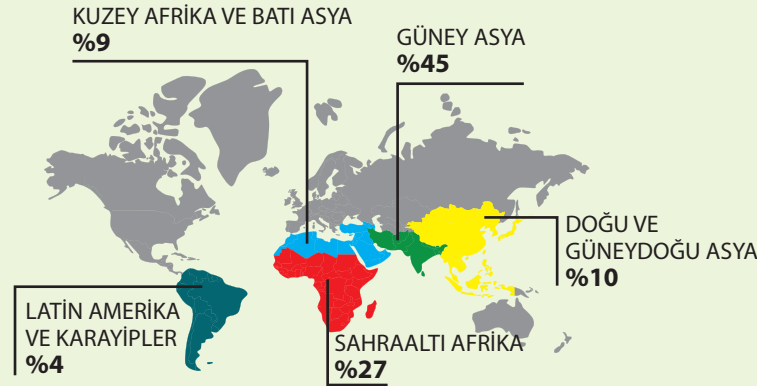
UNESCO raporlarında yer alan verilere göre, dünyada 486 milyon kadın ve 295 milyon erkek okuma yazma bilmiyor. Her yıl 8 Eylül'de kutlanan **Dünya Okuma Günü**'nde, okuryazarlık hakkında farkındalık yaratılması amaçlanıyor.

**OKUMA YAZMA BİLMEYEN GENÇ SAYISI (15-24 YAŞ)**

1996 170 MİLYON

2016 102 MİLYON

## OKURYAZARLIĞI OLMAYANLARIN BÖLGELERE GÖRE DAĞILIMI



**TÜRKİYE'DE OKURYAZAR OLMAYAN NÜFUS ORANI**

ERKEK	%1,1
KADIN	%6,1

**TÜRKİYE'DE OKUMA YAZMA BİLMEYENLERİN SAYISI**

2009 4 MİLYON 645 BİN 638

2018 2 MİLYON 197 BİN 257

Bu görselden hareketle aşağıdakilerin hangisine kesin olarak ulaşılabilir?

- A) Türkiye'de okuma yazma bilmeyenlerin sayısı 2009'dan 2018 yılına kadar düzenli olarak azalmıştır.
- B) Dünyada 15 yaş ve üzeri okuma yazma bilmeyenlerin çoğunluğu kadın nüfusundan oluşmaktadır.
- C) Türkiye'de okuryazar olanların nüfusunun toplam nüfusa oranı %92,8 olarak tespit edilmiştir.
- D) Okuryazarlığı olmayanların bölgelere dağılımında en büyük yoğunluk Güney Asya bölgesindedir.

6. Her rafında iki kitabın bulunduğu beş katlı bir kitaplıkta sol taraftaki bölümler alttan üste doğru 1,3, 5, 7, 9; sağ taraftaki bölümler alttan üste doğru 2, 4, 6, 8, 10 şeklinde numaralandırılmıştır. Bu kitaplıktaki kitapların isimleri A, B, C, D, E, F, G, H, K, L şeklinde kodlanmıştır. Kitaplıktaki kitapların hangi katta ve hangi bölümlerde yer aldığıyla ilgili bilinenler şunlardır:

- ▶ F, G ve B kitapları çift numaralı bölümde bulunmaktadır.
- ▶ H kitabının hemen üstünde D kitabı, hemen altında C kitabı bulunmaktadır.
- ▶ 7 numaralı bölümde A kitabı, 10 numaralı bölümde L kitabı bulunmaktadır.
- ▶ H kitabı ve E kitabı aynı katta, F kitabı ise B kitabının hemen üstündeki kattadır.

Buna göre kitaplıktaki kitapların konumu ile ilgili aşağıdakilerden hangisi söylenemez?

- A) G kitabı iki numaralı bölümde yer almaktadır.
- B) A kitabı ve F kitabı aynı katta yer almaktadır.
- C) D kitabı, üç numaralı bölümde yer almaktadır.
- D) E kitabının hemen üstünde B kitabı yer almaktadır.

7.

Durgun bir akşamın deniz esintisini  
Yırtarken çekinerek gecenin kara eli;  
Yorgun bir gölge, omzunda bir günün yükü  
Sürüklüyor ufuklara ağır adımlarını.

**Yukarıdaki dörtlükte kişileştirilen varlıklar aşağıdaki-lerden hangisidir?**

- A) gecenin kara eli - yorgun bir gölge
- B) durgun bir akşam - ağır adımlar
- C) yorgun omuz - sürüklenen ufuklar
- D) deniz esintisi - bir günün yükü

8.



Mostar Köprüsü 1566 senesinde Mimar Sinan'ın öğrencisi olan Mimar Hayreddin tarafından Bosna Hersek'in Mostar Şehri'nde Neretva Nehri üstüne inşa edilmiştir.

**Yukarıdaki cümlede aşağıdakilerden hangisi yapılrza yazım yanlışı düzeltilmiş olur?**

- A) "Mostar Köprüsü" ifadesi "Mostar köprüsü" şeklinde yazılarak
- B) "Mostar Şehri'nde" ifadesi "Mostar şehrinde" şeklinde yazılarak
- C) "Neretva Nehri" ifadesi "Neretva nehri" şeklinde yazılarak
- D) "Mimar Hayreddin" ifadesi "mimar Hayreddin" şeklinde yazılarak

9.

Dünya; yıl boyunca Güneş'in etrafında dolanırken farklı tarihlerde tozlu, taşlı ve topraklı yollara giriyor. Çoğunlukla kuyruklu yıldızlar ve asteroit artıklarından oluşan kirliliğe bölgelerindeki taş parçaları Dünya'nın atmosferine girerek yanıyor. 20-21 Ekim gecesi yoğun bir meteor yağmuru bekleniyor. Bu meteor yağmurunun tek nedeni şudur: Halley Kuyruklu Yıldızı'nın daima hareket etmesidir.

**Bu metindeki noktalama işaretlerinin işlevi aşağıdakilerin hangisinde yanlış verilmiştir?**

- A) İki nokta, kendisiyle ilgili örnek verilecek cümlelerin sonuna konmuştur.
- B) Kısa çizgi; ve, ile, ila, ...-den ...-e anlamlarını vermek için kelimeler veya sayılar arasında kullanılmıştır.
- C) Virgül, birbiri ardınca sıralanan eş görevli kelime ve kelime gruplarının arasında kullanılmıştır.
- D) Noktalı virgül, ikiden fazla eş değer öğeler arasında virgül bulunan cümlelerde öznenen sonra kullanılmıştır.

10.

(I) Antik Yunan ve Mezopotamya arasında sıkça yaşanan savaşlar pek çok destana konu olmuştur. (II) Antik Yunan'ın modern insana Mezopotamya'dan daha çekici gelmesinin önemli bir nedeni Mezopotamya'nın aksine bir yurttaşlar devleti modeli ortaya koymasıdır. (III) Bunun etkisiyle Antik Yunan, modern insanın gözünde Mezopotamya'yı geri plana itmiştir. (IV) Bu kitapta yazılanlar uygarlık bakımından Mezopotamya'nın Antik Yunan'dan hiç de geri kalmadığını düşündürüyor okurlarına.

**Numaralandırılmış bu cümlelerle ilgili aşağıda verilen,**

- 1. I numaralı cümle öznel cümledir.
- 2. II numaralı cümle sebep-sonuç cümlesidir.
- 3. III numaralı cümlede olasılık anlamı vardır.
- 4. IV numaralı cümlede karşılaştırma vardır.

**Açıklamalardan hangileri doğrudur?**

- A) 1 ve 2
- B) 1 ve 3
- C) 2 ve 4
- D) 3 ve 4

11. Herkes dünyayı kendine özgü algılar, hisseder ve görür. Geçen her saniye başka hislerimiz uyanırken ve biz bile hislerimizi birkaç kelimeyle anlatamazken hayatın anlamını birkaç kelimeye sığdırmaya çalışmak, hayata haksızlık olur. Bana hayat hangi köklerin üzerinde filizlenmektedir diye soracak olsaydınız, sizlere vereceğim cevap “merhamet” olurdu. Merhamet sayesinde zihnimiz; korku, kızgınlık, kıskançlık ve intikam gibi yıkıcı duygulardan arınmaktadır. Merhamet duygusu bir kenara atılırsa insani özelliklerimizin tümü erozyona uğrar. İnsan dünyayı daha güzel bir yer haline getirmek istiyorsa tüm olumsuzlukları merhamet potasında eritebilmelidir.

**Aşağıdakilerden hangisi bu metinde altı çizili sözcük gruplarının cümleye kattığı anlamlardan biri değildir?**

- A) Benzer konuları ve sorunları birleştirip tek bir kavramın çatısı altında toplamak  
B) Gelişmeye uygun bir zemin bularak uç vermek, büyümeye başlamak  
C) Değerini ve önemini kaybederek sıradanlaşmak, yozlaşarak özünü yitirmek  
D) Çok geniş içeriğe sahip ve manası derin bir konuyu üstünkörü anlatmaya çalışmak

12. Aşağıdaki tabloda yardımcı ögeler ve açıklamaları verilmiştir.

<b>Nesne</b>	Öznenin yaptığı işten etkilenen ögedir.
<b>Yer Tamlayıcısı</b>	Yüklemi; yönelme, bulunma ya da ayrılma anlamıyla etkileyen ögedir.
<b>Zarf Tamlayıcısı</b>	Yüklemi; zaman, durum, miktar, yer-yön vb. yönlerden etkileyen ögedir.

**Buna göre aşağıdaki cümlelerin hangisinde yardımcı ögelerin tamamı kullanılmıştır?**


- A) Sınav sonucunu beklerken yaşadığım olay beni derinden etkilemişti.  
B) Kimi insanlar, düşüncelerini hayata geçirmek için farklı yollara yönelir.  
C) Yaşlı adam, babasının verdiği öğütleri kendi hayatına hâlâ uyguluyor.  
D) Gençliğimizin önemli tiyatro oyunları tekrardan burada sahne alacak.

13. Zamana bırak, zaman her şeyin ilacıdır, zamanla geçer, zamanla her şey düzelecek vb. ifadelere çok aşinayız. Peki, zaman tek başına gerçekten becerbiliyor mu onca şeyin beceremediklerini? Sanırım “zaman” ilaç görevinden ilacın yardımcısı görevine sahiptir. Çare değildir, soğuma sağlar. Çözüm değildir, hafifleme sağlar. Olayları objektif değerlendirmeye başladığımız evreye götürür. Geçirmez, unutturmaz ama duygusal yükü hafifletir. Kısacası tek başına zamana bırakmak düştüğümüz yerde kalmaktır.

**Bu parçada asıl anlatılmak istenen aşağıdakilerden hangisidir?**

- A) Zaman, tek başına sorunları çözmek için yeterli değildir.  
B) Yaşanan problemlerin ve sıkıntıların en iyi ilacı zamandır.  
C) Zaman, düşünmemize fırsat tanıyarak bizleri rahatlatır.  
D) İnsan, zamanla daha tarafsız değerlendirme yapabilir.

14. İnternet yoluyla çalışma, uzaktan eğitim, online terapi ve daha birçok olağan eylemin internet aracılığı ile yapılması hiç beklenmedik bir şekilde hayatın içine girmiştir.

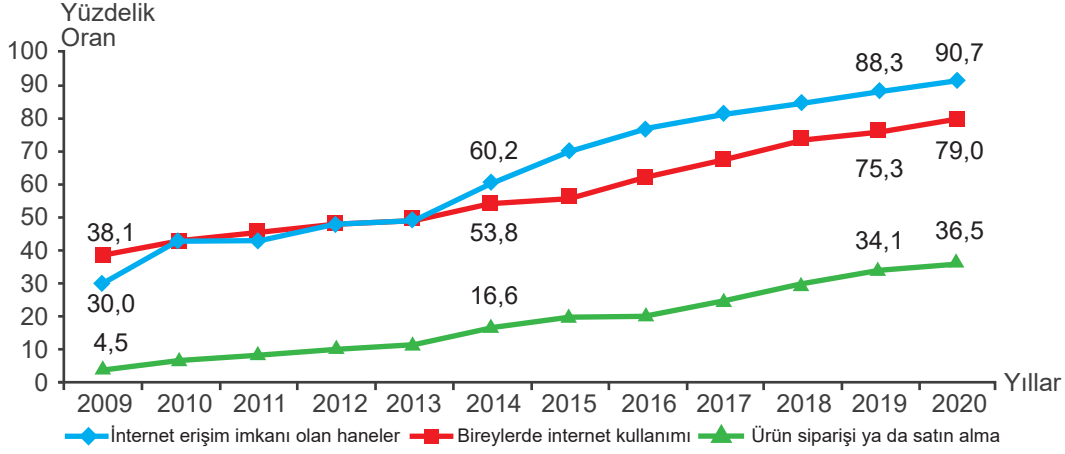


Okulların yüz yüze mi, yoksa uzaktan mı olmasının daha sağlıklı olduğu tartışması hâlâ sürmektedir. Koronavirüs salgınında bulaşmanın önlenmesi ve salgının sonlanmasının yolunun, mesafeyi korumak olduğu herkesin kabulü. Ancak uzaktan eğitimin takip edilmesinin zorluğu ya da ekran yorgunluğu gibi kavramlar artık gündemimizde. Ayrıca çocuğun diğer çocukların etkileşimiyle kazandığı önemli beceriler, teknolojiyle kapatılabilecek gibi görünmüyor.

**Bu metnin konusu aşağıdakilerden hangisidir?**

- A) Salgından korunmak için insanların üzerine ne gibi görevler düştüğü  
B) Uzaktan eğitimin, yüz yüze eğitime göre üstünlüklerinin neler olduğu  
C) Koronavirüse yakalanan öğrencilerin eğitim faaliyetlerinden geri kalması  
D) Mevcut şartlarda uzaktan eğitimin yüz yüze eğitimin yerini alamayacağı

15. Aşağıda 2009-2020 yılları arasında ülkemizde internet erişim imkanı olan haneler, bireylerde internet kullanımı, ürün siparişi ya da satın alma konusunda bir grafik verilmiştir.



Buna göre grafikte ilgili olarak aşağıda verilen bilgilerden hangisi yanlıştır?

- A) Ürün siparişi ya da satın alma oranı, verilen yıllarda bireylerde internet kullanım oranının daima altında kalmıştır.  
 B) İnsanların ekonomik gelirleri arttıkça internet üzerinden ürün siparişi ya da satın alma oranları da artmıştır.  
 C) 2014-2019 yılları arasında en fazla artış oranı internet erişim imkanı olan hanelerde gerçekleşmiştir.  
 D) 2014-2020 arasında internet erişim imkanı olan hane oranındaki artış, aynı yıllarda bireylerde internet kullanım oranından fazla olmuştur.
16. Türkiye'de tarımsal istihdamın ve üretimin yaklaşık yüzde 4'ünü çay tarımı oluşturuyor ve nüfusumuzun yüzde 96'sı çay içiyor. Şaşırdınız mı? Şaşırmayın çünkü ülkemizde kişi başına düşen yıllık çay tüketimi 3,5 kilogramı bulurken bu miktar bizi dünya ülkeleri arasında birinci sıraya taşıyor. Bu durum ülkemizde sudan sonra en çok çay içildiği anlamına geliyor. Bunların yanı sıra öğreniyoruz ki çay her ülkede kültüre bağlı olarak farklı zamanlarda ve farklı şekillerde tüketiliyor. İngiltere'de çay öğleden sonra saat 4 civarında hafif bir yiyecek eşliğinde içilirken daha ağır çay ziyafetleri ise akşam saat 5 ile 7 arasında gerçekleşiyor. Hindistan'da siyah çay genelde deminin hafiflemesi için süt ile tüketiliyor. Çin'de ise çay genellikle yeşil çay olarak tüketiliyor.

Yukarıdaki parçada aşağıdaki düşünceleri geliştirme yollarından hangisine başvurulmamıştır?

- A) Tanımlama  
 B) Karşılaştırma  
 C) Sayısal verilerden yararlanma  
 D) Örnekleme

17. (I) Birçok meyve ve sebze kesildiğinde kabuğu soyulduğunda veya zedelendiğinde renk değişimi yaşamaktadır. (II) Nar, armut, patates, kiraz gibi pek çok meyve veya sebze bu özelliği göstermektedir. (III) Eğer canlılardaki hücre yapısına hâkimseniz her hücrede binlerce enzimin yer aldığını da biliyorsunuzdur. (IV) Enzimler hücrelerin yaşaması için gerekli görevi yerine getirir.

Numaralanmış cümlelerden hangisinden sonra "Meyve ve sebzelerin kesildiklerinde kararmaları enzimlerin işte bu işlevlerinin sonucudur." ifadesi getirilirse metnin anlam bütünlüğü sağlanmış olur?

- A) I  
 B) II  
 C) III  
 D) IV



18. “Makineleşmenin insan yaşamına etkileri nasıldır?”

Aşağıdaki metinlerden hangisi bu soruya verilmiş bir yanıt olamaz?

- A) Yıllar önce ortaya bir ürün çıkarabilmek için onlarca belki yüzlerce insana ihtiyaç duyulan bazı meslekler için bugünlerde makineleşmenin etkisiyle neredeyse hiç insan gücüne ihtiyaç duyulmamaktadır. Dolayısıyla da makineleşmeye bağlı olarak birçok insan işsiz kalma riskiyle baş başadır. Örneğin; döner kesme makinelerinin kullanımı, döner ustalarını saf dışı bırakmıştır.
- B) Buharın gücünü temel alarak ortaya çıkan Sanayi İnkılabı sürecinin doğal bir sonucu olarak makineleşme dönemi başlamıştır. Makineleşme Çağı gerek sosyal şartlar gerekse ekonomik dengeler sebebiyle 18. yüzyılda İngiltere’de doğmuş olup başlangıçta kömür gücünü, ardından ise buhar gücünü kullanarak 19. yüzyılda tüm dünyaya yayılmıştır.
- C) Geçmişte en ağır işleri bile kendileri yapmak zorunda kalan insanların en büyük yardımcısı makineler olmuştur. Makineleşmeyle birlikte öncelikle tarımda makine kullanımı artmış ve bu alanda daha az insan gücü ile daha fazla üretim şansı yakalanmıştır. Dolayısıyla makine ilk olarak tarımda kullanılmış ve istenen verim elde edilmiştir.
- D) Günümüzde makineleşme kavramı ortaya çıktığı dönemdeki büyük ve devasa makine kavramından oldukça uzaklaşarak evlerimizden içeri girmiştir adeta. Bizlerin hayatına tek tek etki edecek duruma gelmiştir. Artık hepimizin elinde küçük makineler bulunmakta ve bunlar sayesinde dünyanın öteki ucuna saniyeler içinde ulaşım işlerimizi rahatça halledebilmekteyiz.

19. (I) İş hayatımız boyunca nesnelere algıladığımız görüntüleri yargılamak için çabalarız. (II) Bunun için doğruyu eğriden ayırt edecek bir araca ihtiyacımız var. (III) Böyle ayırt edici bir araç bulmak ne yazık ki her zaman mümkün olmuyor. (IV) Günün birinde aradığımız özelliğe sahip bir araç bulunduğunda hepimiz için çalışma hayatı daha da kolay ve eğlenceli hale gelecektir.

Numaralandırılmış cümlelerden hangisinde üç filimsi türüne de yer verilmiştir?

- A) I  
C) III
- B) II  
D) IV

20.

Alfabe – Harf Bağlıntısı				
A = 1	B = 2	C = 3	Ç = 4	D = 5
E = 6	F = 7	G = 8	Ğ = 9	H = 10
I = 11	İ = 12	J = 13	K = 14	L = 15
M = 16	N = 17	O = 18	Ö = 19	P = 20
R = 21	S = 22	Ş = 23	T = 24	U = 25
Ü = 26	V = 27	Y = 28	Z = 29	

Vigenere algoritması, çoklu harf ve sayı ilişkisine dayanan bir şifreleme sistemidir ve tarih boyunca gizli kalması gereken bilgilerin iletiminde kullanılmıştır. Sistemin işleyişi şu şekildedir:

- ▶ Öncelikle bir anahtar kelime belirlenir.
- ▶ Ardından bu anahtar kelimedeki harflerin rakamsal karşılıkları bulunur.
- ▶ Bir sonraki aşamada şifrelenecek olan kelime verilir ve bu kelimedeki her harfin de rakamsal karşılıkları bulunur.
- ▶ Sonraki adımda ise anahtar kelime ve şifrelenecek kelime alt alta yazılarak her harfe karşılık gelen rakamlar toplanır.
- ▶ Her harf için yapılan toplama işlemi sonundaki rakamın harf karşılığı yazılarak şifreleme işlemi ortaya çıkarılır.

Örneğin; “ASİL” kelimesinin “KANI” anahtar kelimesi ile şifrelenmiş hali “LŞZÜ” şeklindedir.

**Buna göre “KÖPRÜ” kelimesinin “AHBAB” anahtar kelimesi ile şifrelenmiş hali aşağıdakilerden hangisidir?**

- A) LYZZS  
C) LZSSY
- B) LZZYS  
D) LYZSY

Türkçe testi bitti.  
T.C. İnkılap Tarihi ve Atatürkçülük testine geçiniz.



İZLEME SINAVI - 4

1. “Ey insanlar! Malumunuz olsun ki, bütün kahraman askerlerim, bütün İslam’ın sırtını dayadığı yer, manevi gücün desteği olan Medine’yi, son fişengine, son damla kanına, son nefesine kadar korumaya ve kollamaya me’murdur. Bu asker, Medine’nin enkazı ve nihayet Ravza-ı Mutahhara’nın yeşil türbesi altında, kan ve ateşten dokunmuş kefenle gömülmedikçe, Medine-i Münevvere kalesinin burçlarından ve yeşil kubbesinden al sancağı alınmayacaktır.

Ey Osmanlı ordusunun yiğit subayları! Ey her cenkte cihani tir tir titretmiş yiğit Mehmetçiklerim! Gelin hep beraber Allah’ın ve işte huzurunda huşu ve aşk içinde gözyaşları döktüğümüz Peygamber’in karşısında, aynı yemini tekrar edelim ve diyelim ki; ‘Ya Resulallah, biz seni bırakmayız!’”

(Dr. Orhan Yeniaras, Fahrettin Paşa ve Medine Savunması)

Fahrettin Paşa’nın konuşmasından yola çıkarak yapılan yorumlardan hangisinin doğru olduğu söylenemez?

- A) Fahrettin Paşa, bu cephede savunma savaşı yapmıştır.
- B) Medine müdafaasında dini hassasiyetler ön plana çıkmıştır.
- C) İngilizler bu cephede Osmanlı’ya karşı Araplarla iş birliği yapmıştır.
- D) Fahrettin Paşa kanının son damlasına kadar savaşmaya kararlıdır.

2. İtilaf Devletleri, I. İnönü Savaşı’nın Türk ordusu tarafından kazanılmasından sonra ortaya çıkan durumu görüşmek için Londra’da bir konferans düzenlediler. Konferansa, Türk milletini temsilen hem İstanbul Hükümeti’ni hem de TBMM Hükümeti’ni davet ettiler. Londra Konferansı’na Osmanlı Hükümeti’nin temsilcisi olarak katılan Sadrazam Tevfik Paşa ise söz sırası kendisine geldiğinde “*Ben sözü Türk milletinin hakiki temsilcisi olan TBMM delegesine bırakıyorum.*” demiştir.

Yukarıdaki metne göre aşağıdakilerden hangisi söylenemez?

- A) İtilaf Devletleri, TBMM’nin varlığını kabul etmişlerdir.
- B) İtilaf Devletleri arasında görüş ayrılıkları ortaya çıkmıştır.
- C) TBMM, Türk milletinin tek temsilcisi haline gelmiştir.
- D) İtilaf Devletleri, Türk hükümetleri arasında ikilik çıkarmak istemiştir.

3. Mustafa Kemal Paşa Havza’ya ulaştıktan sonra halkla toplantı yapmış, toplantı sonunda Havza Müdafaa-i Hukuk Cemiyeti’nin açılmasını sağlamıştır. Mustafa Kemal Paşa, Havza’dan kolordu komutanlarına gizli bir telgraf göndermiştir. Bu telgrafta, Anadolu’da yaşanan işgallerin mitingler yapılarak ve İtilaf Devletleri ile Osmanlı Hükümeti’ne telgraflar çekilerek protesto edilmesini istemiştir. Bu telgraftan sonra yurdun birçok yerinde mitingler düzenlenmiştir.

Verilen metne göre Mustafa Kemal’in;

- I. Teşkilatçılık
- II. İleri Görüşlülük
- III. Liderlik

özelliklerinden hangileri çıkarılabilir?

- A) Yalnız I
- B) I ve II
- C) I ve III
- D) I, II ve III





4. Aşağıda milli cemiyetler ve mücadele ettikleri azınlık cemiyetleri haritası verilmiştir.



Verilen harita incelendiğinde aşağıdaki yorumlardan hangisinin kesin olarak doğru olduğu söylenebilir?

- A) Taşnak ve Hınçak Cemiyeti tek bir bölgede faaliyet göstermiştir.
- B) Mavri Mira Cemiyeti'nin amacı Bizans'ı yeniden canlandırmaktır.
- C) Her düşman cemiyetle mücadele eden bir milli cemiyet vardır.
- D) Düşman cemiyetler İtilaf Devletleri tarafından desteklenmiştir.
5. Urfa'da Millî Mücadele'nin önde gelen isimlerinden olan Ali Saip Bey, "Kuvayimillîye Kumandanı Namık" imzasıyla Fransızlara şu uyarıda bulunmuştur:  
"Asırlardan beri hür ve bağımsız yaşamış bir millet, istila ve esareti kabul edemez. Urfa'daki misafirliğinize daha fazla müsaade etmemize imkân yoktur. Antlaşmaya aykırı işgalinizi şiddetle reddeder, 24 saat içinde Urfa'yı terk ve tahliye etmediğiniz takdirde kesin hareketlere başvurulacağını ve dökülecek kanların sorumluluğunun size ait olacağını üzüntü ile bildiririz. Hristiyan vatandaşlarımızın her türlü hakkı korunacaktır. Urfa'yı boşaltmaya onay verdiğiniz takdirde sınırımızın dışına kadar serbestçe gidebileceğinizi temin ederiz."
- Yukarıdaki metinde Ali Saip Bey'in yaptığı uyarı esas alındığında aşağıdakilerden hangisinin söylenmesi doğru olmaz?**
- A) Hristiyan halka güvence vermiştir.
- B) Fransızlar Urfa'yı terk etmek zorunda kalmıştır.
- C) Vatansızlık duygusu ile hareket etmiştir.
- D) Fransızlara gözdağı vermiştir.
6. Mustafa Kemal, silah arkadaşlarıyla birlikte Amasya Genelgesi'ni yayımlamış ve Sivas'ta ulusal bir kongre toplanması kararını vermişti. Mustafa Kemal, Erzurum Kongresi'ne katılmak için yola çıkmış ve kongre hazırlıklarını kontrol etmek için Sivas'a ilk kez gelmiştir. Bu ziyaretini ise Nutuk'ta şöyle anlatmaktadır:  
"Sivas şehrine girerken caddenin iki tarafı büyük bir kalabalıkla dolmuş, askeri birlikler tören düzenini almış bulunuyordu. Otomobillerden indik. Yürüyerek askerleri ve halkı selamladım. Bu manzara, Sivas'ın saygıdeğer halkının ve Sivas'ta bulunan kahraman subay ve askerlerimizin bağımsızlığa ne kadar düşkün olduğunu gösteren canlı bir tanık idi."
- Verilen metne göre Mustafa Kemal'in ulusal kongreyi Sivas'ta toplamak istemesinin nedeninin aşağıdakilerden hangisi olduğu söylenebilir?**
- A) Sivas'ın Anadolu'nun ortasında yer alması.
- B) Sivas'ın güvenli bir şehir olması.
- C) Sivas'ın kolordu merkezi olması.
- D) Sivas halkının Millî Mücadele yanlısı olması.



7. Mondros Ateşkes Antlaşması'nın bazı maddeleri şunlardır:

- Sınırların korunması ve iç güvenliğin sağlanması için gerekli askerin dışında Osmanlı ordusu terhis edilecektir. Bütün savaş gemilerine, taşıt, araç, gereç, silah ve cephanelere el konulacaktır.
- İtilaf Devletleri, güvenliklerini tehdit eden bir durum olursa herhangi bir stratejik noktayı işgal edebilecektir. (7. Madde)
- Doğudaki altı vilayette (Sivas, Elâzığ, Diyarbakır, Bitlis, Erzurum, Van) karışıklık çıkarsa İtilaf Devletleri bu illeri işgal edebilecektir. (24. madde)

**Mondros'un verilen maddeleri ile İtilaf Devletlerinin amaçları eşleştirildiğinde;**

- İ. İleride kurulması amaçlanan Ermeni devletine zemin hazırlamayı amaçlamıştır.
- II. İşgallere karşı Türk milletinin birleşerek direnişe geçmesini engellemeyi amaçlamıştır.
- III. Osmanlı topraklarının işgaline hukuki zemin hazırlamayı amaçlamıştır.
- IV. Osmanlı Devleti'ni savunmasız hâle getirmeyi ve işgalleri kolaylaştırmayı amaçlamıştır.

**verilen amaçlardan hangisi dışarıda kalır?**

- A) I                                      B) II                                      C) III                                      D) IV

8. Tekâlif-i Milliye Emirleri ile Türk halkı her türlü yoksulluğa karşı, elinde bulunan her şeyini fedakârlıkla ordusuyla paylaşmış, büyük bir dayanışma örneği göstermiştir. Ayrıca İslam halifeliğinin merkezi olan İstanbul'un, Hristiyan ordularınca işgal edilmesi ve Yunanların İzmir yöresinde halka yaptıkları zulüm ve baskı, Müslüman dış dünyada tepkiler uyandırmıştır. Türkiye'ye yardım edebilmek için dünya Müslümanları arasında bir eğilim oluşmuştur. Ordu ihtiyaçlarının karşılanmasında başka ülkelerden sağlanan yardımlar da önemli yer tutmuştur. Bu yardımların bir kısmı para olarak önemli kısmı ise silah ve cephane olarak yapılmıştır.

**Verilen bilgilere bakılarak aşağıdaki yorumlardan hangisi yapılamaz?**

- A) Osmanlı Devleti'nin yardım çağrıları karşılığını bulmuştur.
- B) İstanbul'un işgal edilmesi İslam âleminde tepkiyle karşılanmıştır.
- C) Tekâlif-i Milliye Emirlerinin yayınlanması ordunun eksikliklerinden kaynaklanmıştır.
- D) Türk milleti bağımsızlık yolunda hiçbir fedakârlıktan kaçınmamıştır.

9. Aşağıda Mustafa Kemal'in Maarif Kongresi'nde öğretmenlere yaptığı konuşmadan bir kesit verilmiştir.

“Silâhıyla olduğu gibi, aklıyla da mücadele mecburiyetinde olan milletimizin birincisinde gösterdiği kudreti ikincisinde de göstereceğine asla şüphem yoktur. Milletimizin bugünkü durumu geri kalmışlık içindedir ve bu geri kalmışlığı gidermek için kendini geliştirmiş bireyler lazımdır. Fakat milletimizi yetiştirmek gibi mukaddes bir vazifeyi yerine getiren yüce heyetinizin içinde bulunduğumuz durumu dikkate alacağından ve her zorluğa göğüs gererek bu yolda yürüyeceğinden şüphem yoktur.”

(Düzenlenmiştir.)

**Verilen metne göre aşağıdaki yorumlardan hangisi yapılamaz?**

- A) Mustafa Kemal, öğretmenlere büyük görevler düştüğünü vurgulamıştır.
- B) Mustafa Kemal, ülkenin bir an önce geri kalmışlıktan kurtulması gerektiğini söylemiştir.
- C) Mustafa Kemal'in eğitim konusunda öğretmenlere güveni tamdır.
- D) Mustafa Kemal, Türk milletinin askeri alanda eğitim almasını istemiştir.



10. Mustafa Kemal, Kütahya-Eskişehir Savaşlarındaki geri çekilme gerekçelerini şu şekilde açıklamaktadır:

“Düşman ordusuyla aramızda büyük bir açıklık bırakmak gerekir ki orduyu derleyip toparlamak ve güçlendirmek mümkün olabilsin. Bunun için Sakarya'nın doğusuna kadar çekilmek yerinde olur. Düşman bizi takip ederse kendi harekât üssünden uzaklaşacak ve yeniden menzil hatları kurmaya mecbur olacak, birçok güçlüklerle de karşılaşacak. Buna karşılık bizim ordumuz toplu bulunacak ve daha elverişli şartlara sahip olacaktır.”

**Buna göre Mustafa Kemal'in orduyu geri çekmesindeki asıl amaç;**

- I. Ordumuzun zaman kazanıp toparlanmasını sağlamak.
- II. Yunan ordusunun oyalanıp vakit kaybetmesini sağlamak.
- III. Ordumuzun taarruz için hazırlıklarını tamamlamak.

**numaralanmış maddelerden hangileri olabilir?**

- A) I ve II                      B) I ve III                      C) II ve III                      D) I, II ve III



İZLEME SINAVI - 4

1. Tablolarda Maun suresinin bazı ayetleri ile güzel davranışlar verilmiştir. Ayetlerle ilgili olan davranışların eşleştirilmesi istenmiştir.

Maun suresinden bazı ayetler

- A. İşte o, yetimi itip kakan, yoksula yedirmeyi özendirmeyen kimsedir.  
B. Onlar (namazlarıyla) gösteriş yaparlar.  
C. Ufacık bir yardıma bile engel olurlar.

Dinimizde emredilen davranışlar

- ( ) Merhametli olmak.  
( ) Yardımsever olmak.  
( ) Sabırlı olmak.  
( ) Riyakârlık yapmamak.

Eşleştirme doğru şekilde yapılırsa hangi davranış boşa kalmaktadır?

- A) Merhametli olmak.  
B) Yardımsever olmak.  
C) Sabırlı olmak.  
D) Riyakârlık yapmamak.

2.

Zekat yılda bir kez verilir. Zekat verilecek kimseler Kur'an-ı Kerim'de "Sadakalar (zekatlar) Allah'tan bir farz olarak ancak yoksullara, düşkünlere, (zekat toplayan) memurlara, gönülleri (İslam'a) ısındırılacak olanlara, (hürriyetlerini satın almaya çalışan) kölelere, borçlulara, Allah yolunda olana, yolda kalana mahsustur..." (Tevbe, 60) ayetiyle bildirilmiştir.

Aşağıda verilenlerden hangisi zekât verilebilecek sınıfa dâhil değildir?

- A) Fakir olan kardeşimiz  
B) Borçlu olan amcamız  
C) İhtiyaç sahibi teyzemiz  
D) Yoksul anne babamız

3.

Yüce Allah, Medyen halkına Hz. Şuayb (as) peygamber olarak göndermiştir. Hz. Şuayb kavmine şu konularda uyarılarda bulunmuştur:

- Hak olan tevhit inancına bağlanın.
- Alışverişinizde dürüstlükten ayrılmayın.
- Huzur bozup kul hakkı yemeyin.

Aşağıdaki ayetlerden hangisi Hz. Şuayb'in halkına yaptığı uyarılardan herhangi birinden bahsetmemektedir?

- A) "Ey kavmim! Allah'a kulluk edin; sizin için O'ndan başka hiçbir tanrı yoktur..." (Hud, 84)  
B) "...Ahiret gününde Allah'ın mükâfatını umacağınız güzel ameller işleyin ve ülkede bozgunculuk yaparak karışıklık çıkarmayın." (Ankebut, 36)  
C) "...Artık ölçüyü ve tartıyı tam yapın. Mal ve eşyanın değerini düşürerek insanlara haksızlık yapmayın..." (Araf, 85)  
D) "Ey iman edenler, sabredin ve sabırda yarışın, (sınırlarda) nöbetleşin. Allah'tan korkun..." (Ali İmran, 200)

4.

"Mallarını Allah yolunda harcayan, sonra da harcadıklarının arkasından başa kakıp incitmeyenler için Rablerinin katında özel karşılık vardır. Artık onlar için korku yoktur, onlar üzüntü de çekmeyeceklerdir. İyi sayılan bir söz ve bir bağışlama, arkasından eziyet gelen bir sadakadan daha iyidir. Allah zengindir, halîmdir."

(Bakara, 262-263)

Bu ayete göre hareket eden birinden aşağıdakilerden hangisini yapması beklenmez?

- A) Zekât verdiği kişiye yaptığı yardımı sürekli hatırlatması.  
B) Yardımı yalnızca Allah rızası için yapması.  
C) Zekât verirken yardım yaptığı kişiyi incitmemesi.  
D) Yardımına riya karışmaması için gizli vermeye dikkat etmesi.

5. İstanbul Fatih'te bir vatandaş evinden sokağa sepet sarkıtarak, veren el ile alan el arasında köprü oluyor ve ihtiyaç sahiplerinin yüzünü güldürüyor. Üzerinde "İmkânı olan koysun, ihtiyacı olan alsın" ifadesi yazılı sepete yardım yapmak isteyenlerin bıraktığı gıda ürünleri yer alırken, ihtiyaç sahipleri de istedikleri ürünü ücretsiz alabiliyor. Sosyal medyadan görüp etkilendiği uygulamayı kendisi de yapan vatandaş, yaptığı için işe yarıyor olmasından dolayı gurur duyduğunu söylüyor.

**Öğretmenin derste anlattığı bu olaydan sonra aşağıdaki hadislerden hangisini kullanması daha uygun olur?**

- A) "Bir müslüman, sevabını Allah'tan umarak çoluk çocuğuna bir harcama yaparsa, bu onun için bir sadaka olur."  
 B) "Hayra vesile olan, hayrı yapan gibidir."  
 C) "Ey Âdemoğlu, infak et ki, sana da infak olunsun."  
 D) "Kıyamet günü müminin serinleyeceği gölgelik (verdiği) sadakasıdır."

### 6. Sahra Çalısı

Çölde yaşamını sürdüren bu bitkinin çok ilginç bir hikâyesi vardır. Sahra çalısı çölün ağır şartlarında kurur ve bir öbek halini alır. Rüzgârın etkisiyle yerinden sökülür ve yuvarlanmaya başlar. Çölde sürüklenme olayı yıllarca sürer ve bitkinin serüveni yağmurun oluşturduğu su birikintisine rastlamasıyla değişir. Suyun içinde, köklerini bile salmadan yeşerir ve yağışla birlikte içinde uzun yıllar sakladığı tohumlar patlayarak çöl kumlarına düşer. Düşen tohumlar kısa sürede yeşerir ve büyür. Sonra güneşin etkisiyle tekrar kurur ve serüven başa döner.



**Aşağıda yer alan ayetlerden hangisinin parça da bahsedilen olayla bir bağlantısı bulunmamaktadır?**

- A) "Allah'ın dilemesi olmadıkça siz dileyemezsiniz. Şüphesiz Allah hakkıyla bilendir, hüküm ve hikmet sahibidir."  
 (İnsan, 30)  
 B) "O ölüden diriye, diriden de ölüyü çıkarıyor ve yeryüzünü ölümünün ardından canlandırıyor..."  
 (Rum, 19)  
 C) "Allah, gökten su indirir de onunla ölümünden, kuruyup katılaştıktan sonra yeryüzünü diriltir..."  
 (Nahl, 65)  
 D) "Allah'ın gökyüzünden indirip kendisiyle ölmüş toprağı dirilttiği yağmurda... düşünen bir topluluk için deliller vardır."  
 (Bakara, 164)

7. Kuran-ı Kerim'de yer alan toplumsal yasa ayetlerinden bazıları şunlardır:

"Sizden önceki milletlerin başından nice olaylar gelip geçmiştir. Yeryüzünde gezin dolaşın da yalancıların sonunun nasıl olduğuna bir bakın."  
 (Âl-i İmran, 137)

"Onlar yeryüzünde gezip kendilerinden öncekilerin sonunun nasıl olduğuna bakmazlar mı?"  
 (Fatır, 44)

**Kuran'da yer alan bu ayetlerle verilmek istenen asıl mesaj aşağıdakilerden hangisidir?**

- A) İnsanların geçmiş hakkında doğru bilgi sahibi olmasını sağlamak.  
 B) İnsanların kültürlerinden kopmasını engellemek.  
 C) İnsanların geçmişten dersler çıkarıp doğruya ulaşmasını sağlamak.  
 D) Dini eğitimin önemini insanlara aşılacak.



8. İnsan, bu dünyayı anlamaya ve yorumlamaya çalışır. İnsan meraklı ve sorgulayan bir varlıktır. Sadece görünen dünyayı değil, duyular ötesi âlemi de merak eder ve bu âleme ilişkin sorular sorar.

- Kainatın düzenini kim sağlıyor?
- İnsan niçin var edildi?
- Ölüm sonrasında neler var?

Aşağıdaki ayetlerden hangisi parçada verilen sorulardan herhangi birine cevap niteliği taşımamaktadır?

- A) "Sonra (ey insanlar) siz bunun ardından muhakkak öleceksiniz. Sonra yine muhakkak siz, kıyamet gününde (tekrar) diriltileceksiniz." (Müminun, 15-16)
- B) "Andolsun, biz insanoğlunu şerefli kıldık. Onları karada ve denizde taşıdık. Kendilerini en güzel ve temiz şeylerden rızıklandırdık ve onları yarattıklarımızın birçoğundan üstün kıldık." (İsra, 70)
- C) "Göğe gelince, Allah onu yükseltti, kâinattaki mükemmel ahengi sağlayan ölçü ve dengeyi koydu." (Rahman, 7)
- D) "Ben cinleri ve insanları ancak bana ibadet etsinler diye yarattım." (Zariyat, 56)

9. Allah (c.c.), insanı akıllı bir varlık olarak yaratmış ve ona seçme ve tercihte bulunma imkânı sağlayan irade vermiştir. İnsan davranışları zorunlu ve seçime dayalı olmak üzere iki kısımdır.

- Doğduğumuz ülke,
- Aile kurmak,
- Kalbimizin atması,
- Oruç tutmak,

Yukarıdaki öncüllerden hangisi insanın iradesi kapsamında değerlendirilemez?

- A) I ve II                                      B) I ve III                                      C) II ve IV                                      D) III ve IV

10.

<p>الحَيُّ</p> <p>El - Hayy</p>	<p>"Varlığı devamlı olan, hayat sahibi, ölmeyen diri, her şeyin varlığı onun varlığına bağlı olan." demektir.</p>	<p>الْعَلِيِّ</p> <p>El - Aliyy</p>	<p>"İzzet, şeref ve hükümlerlik bakımından en yüce, aşkın olan." demektir.</p>
<p>الرِّزْقِ</p> <p>Er - Rezzak</p>	<p>"Yaratmış olduğu tüm canlıların hava, su başta olmak üzere tüm ihtiyaçlarını karşılayan, onların yeme, içme, mal, mülk edinmelerini sağlayan, akıl, fikir verip vahiy göndermek suretiyle onları destekleyen, her türlü rızıkı sürekli veren." demektir.</p>	<p>الْقَيُّومِ</p> <p>El - Kayyum</p>	<p>"Zatının ve sıfatlarının mahiyeti anlaşılamayacak kadar ulu olan." demektir.</p>

Yukarıdaki Allah'ın isimlerinin eşleştirmelerinden hangisinde yanlışlık yapılmıştır?

- A) El - Hayy                                      B) El - Aliyy                                      C) Er - Rezzak                                      D) El - Kayyum



## İZLEME SINAVI - 4

1. Read Adam's interests and answer the question.

**Adam's interests**

Skating  
Playing badminton  
Having a picnic  
Watching thrillers



Ava

Are you doing anything on Monday?

No, not at all. Why?

-----?

Why not?



Adam

Which of the following completes the conversation?

- A) Shall we play a board game  
B) How about cycling in the park  
C) Why don't we do an outdoor event  
D) Would you like to see a play

2. Kevin is talking about his best friend Paul.

Paul is my best friend because...

- he understands me better than anyone.
- he is a good listener and always kind.
- he makes me laugh more than anyone else.
- -----.



Which of the following CANNOT complete the list?

- A) he shares my secrets with people  
B) he always cares about my health  
C) he has similar interests as me  
D) he is always there when I need

3. 25 students joined a survey to find their friend's favorite book genre. Here are the results:

**NAME YOUR FAVORITE BOOK GENRE**

Fantasy:

Biographical:

Detective:

Travel:

Which of the following is NOT correct according to the results?

- A) Few of the students like books with extraordinary events.  
B) Less than half prefer books about the life story of a real person.  
C) Learning about a place is less popular than solving crimes.  
D) Students enjoy reading only mysterious and scary events.

4. Read the numbers and answer the question.

1

What do you think about rap music?

2

I prefer pop music.

3

What kind of music do you like then?

4

I don't like it much.

5

I like it, too.

Which of the following should change places to get the correct order of the dialogue?

- A) 3-4  
B) 2-5  
C) 2-4  
D) 3-5

5. Hardy, Beatrix, Lowell, and Wendy want to attend a cooking class. They see a brochure at school and try to find a cooking activity matching their interests. The brochure and some information about the students are below:

### Teens' Cooking Classes

Our teens' cooking classes are the perfect recipe for learning new skills and you have fun in the Kitchen with your family and friends. Let's get cooking!

- 08.00-10.00  
Carrot Cake - Low Sugar!
- 11.00-13.00  
Baked Chicken Nuggets
- 14.00-16.00  
Easy Fried Rice
- 17.00-19.00  
Garlic Parmesan Spaghetti



- Hardy loves eating white meat. He enjoys cooking food in the oven.
- Beatrix wants to taste something new in hot oil and she is free in the afternoon.
- Lowell likes having all kinds of pasta and taking part in cooking classes.
- Wendy would like to make a vegetable pizza because she likes Italian food.





**Which student's interests do NOT match any of the classes on the brochure?**

- A) Hardy  
B) Beatrix  
C) Lowell  
D) Wendy

6. The table shows the food preferences of Alice and Ruth.

Alice	Ruth
Hamburger	Grilled chicken
Meatball	Fast Food
Green salad	Pasta

**Which of the following food can both like?**

- A) 
- B) 
- C) 
- D) 

7. You work as a secretary in an office. You are there to organize office tasks, answer and direct phone calls to the appropriate person and take notes/memos of callers.

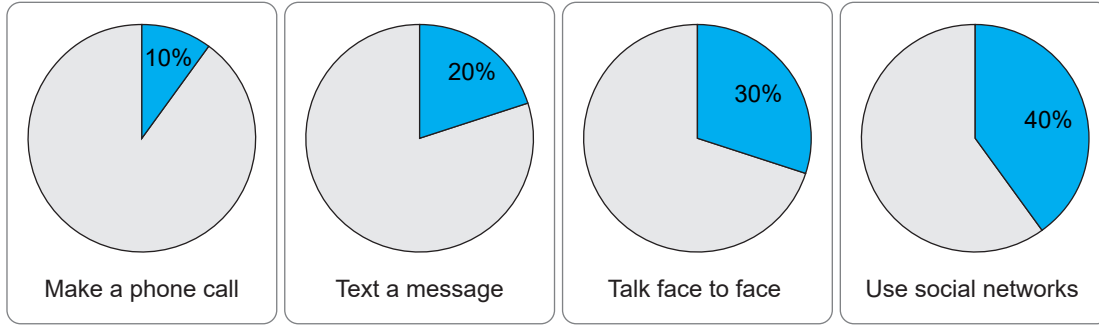


**According to the given information, which of the following you should NOT say?**

- A) Hello Mr. Richardson's office, how can I help you?  
B) I'm engaged at the moment, I cannot put you through.  
C) Please hold the line, I will connect you to the manager.  
D) Don't hang up the phone, I am taking your message.



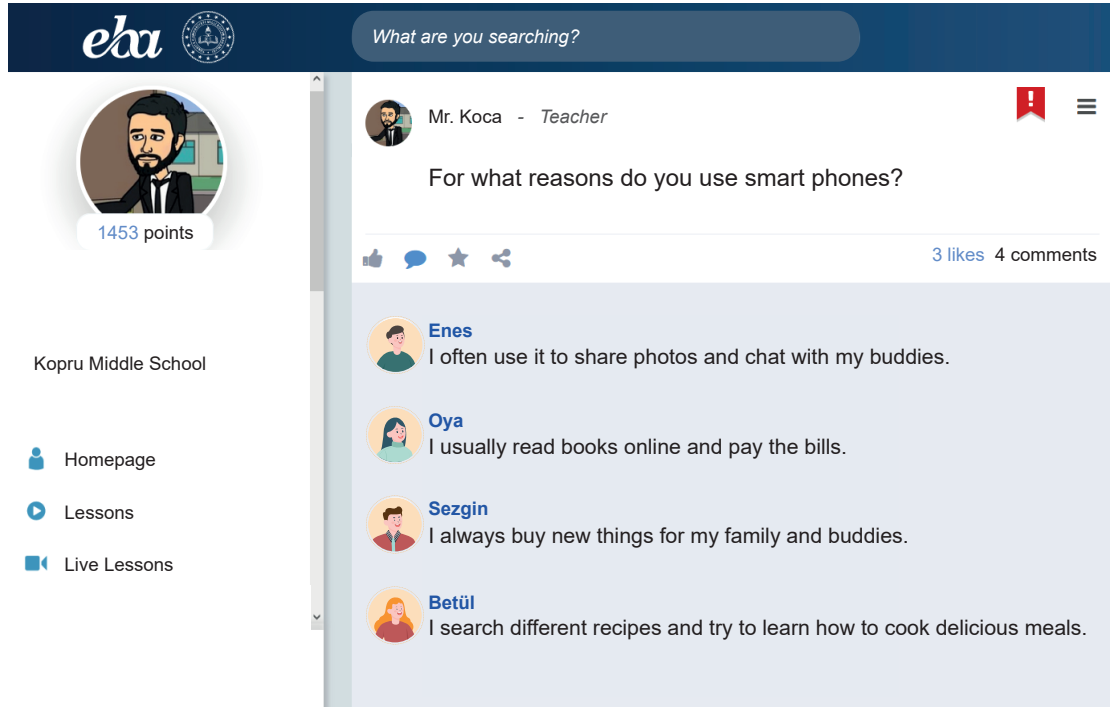
8. Mrs. Joy asked 100 teenagers about their communication preferences. Here are the results of her study:



Using the information above, which of the following question can you answer?

- A) Which ways of communication is more expensive than the others?  
 B) What is the most popular communication way among the teens?  
 C) What way of communication do the teenagers never use?  
 D) Why don't the teenagers prefer talking face to face?

9.



What are you searching?

eha

Mr. Koca - Teacher

For what reasons do you use smart phones?

3 likes 4 comments

Enes  
I often use it to share photos and chat with my buddies.

Oya  
I usually read books online and pay the bills.

Sezgin  
I always buy new things for my family and buddies.

Betül  
I search different recipes and try to learn how to cook delicious meals.

Kopru Middle School

Homepage  
Lessons  
Live Lessons

According to the information, who uses the smart phone to keep in touch with someone?

- A) Enes                      B) Oya                      C) Sezgin                      D) Betül



10. Jeff's parents complain to the school counselor about their son's Internet usage. The counselor teacher asks Jeff to fill in a form about his Internet habits before talking to him. Here are Jeff's answers:

### INTERNET USAGE FORM

Please complete this form

Name: *Jeff Burns* Date: *19.01.2022*  
 Date of birth: *08.08.2008*

1. I always search for information from - - - -.	the encyclopedia	<u>the Internet</u>
2. I use - - - - device(s) to access the Internet.	only one	<u>many</u>
3. I don't have any - - - - friends.	<u>real</u>	online
4. I play online games - - - -.	<u>four hours a day</u>	once a week
5. I comment on - - - - stories of my friends.	few	<u>all</u>
6. I upload - - - - of my photos to my blog.	<u>most</u>	some

According to the replies, Jeff - - - -.

- A) should be careful about using the Net
- B) has control over his Internet usage
- C) uses only a laptop to connect to the Net
- D) is an average Internet user





SİVAS MİLLÎ EĞİTİM  
MÜDÜRLÜĞÜ

Düşlerinize Yaklaştıran Köprüler kuruyoruz.

# KÖPRÜ

Projesi

Kurslarda Öğretimin Planlanması ve Rehberlikte Üstünleşme



Köprü Projesi Youtube Kanalı

sivasmem

