

SOSYAL BİLGİLER



1. Bir kişinin kendisini ve çevresini tanınması iletişimi başlatmanın ilk aşamasıdır. Kendisini ve çevresindekilerini anlaması ya da anlama çabası içinde olması iletişim kurmasını kolaylaştırır.

Panodaki anlatımda iletişimi etkileyen hangi faktörden bahsedilmiştir?

- A) Öğüt vermek B) Eleştirmek
C) Empati kurmak D) Ön yargılı olmak

2.

Yoğun Nüfuslu Yerler	Nedenleri	Sonuçları
?	<ul style="list-style-type: none">İklim koşulları elverişlidir.Ulaşım imkânları gelişmiştir.Tarım, sanayi ve ticaret gelişmiştir.	Çevre illerden sürekli göç almaktadır, bu nedenle nüfus artışı fazladır.

Tabloda “?” ile gösterilen yere aşağıdakilerden hangisi yazılamaz?

- A) Bursa B) Yozgat
C) İzmir D) Adana

3. Tımar sisteminin Osmanlı Devleti'ne sağladığı faydalar arasında;

- I. Halkın devlete olan bağlılığının arttırılması,
II. Devletin maaş yükünün artması,
III. Tarımsal üretimde sürekliliğin sağlanması

verilenlerden hangileri gösterilebilir?

- A) I ve II. B) I ve III.
C) II ve III. D) I, II ve III.

4. Osmanlı Beyliği, Köseadağ Savaşı'ndan sonra Anadolu'da bağımsızlığını ilan eden beyliklerin en küçüklerinden biri olmasına rağmen, kısa sürede üç kıtaya yayılan büyük bir imparatorluk hâline gelmiştir. Bu durumun yaşanmasında birçok faktör etkili olmuştur.



Azra


Azra'nın bu düşüncesine gerekçe olarak aşağıdakilerden hangisi gösterilemez?

- A) Balkanlarda siyasi birliğin olmaması
B) Sınır komşusu Bizans'ın eski gücünde olmaması
C) Beyliğin kurulduğu bölgenin coğrafi konumunun uygun olması
D) Avrupalı devletlerden destek alınması

5. Göç alan bir yerde nüfus yoğun olur.
Buna göre, o yer ile ilgili olarak;
- Çevre sorunları azalır.
 - Tüketim artar.
 - Konut sıkıntısı yaşanır.
 - Eğitim ve sağlık alanlarında aksaklıklar yaşanır.

ifadelerinden hangileri söylenebilir?

- A) I ve II B) II ve III
C) II, III ve IV D) I, II, III ve IV


6.  Coğrafya ve astronomi ile de uğraşan bu bilim insanı en önemli çalışmalarını matematik alanında yapmıştır.



Günümüzde de kullandığımız Hint rakamlarını İslam dünyasına tanıttı. "0"ı matematiğe kazandırdı, böylece günümüzde kullandığımız onlu sayı sistemi ortaya çıktı.

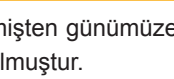
Öğrencilerin, hakkında bilgi verdikleri bilim insanı aşağıdakilerden hangisidir?

- A) Biruni B) Ali Kuşçu
C) İbn-i Sina D) Harezmi

7.  Bilginin saklanması ve gelecek kuşaklara aktarılması hangi gelişmeyle mümkün olmuştur?

Sosyal bilgiler öğretmeninin sorusuna doğru cevabı veren öğrenci aşağıdakilerden hangisidir?

- A) Eda: Tarımsal faaliyetlerin başlamasıyla
B) Fırat: Yerleşik hayatın benimsenmesiyle
C) Kemal: Yazının bulunmasıyla
D) Kader: Ticari faaliyetlerin başlamasıyla

8.  Toprak, geçmişten günümüze insanoğlu için hep önemli olmuştur.

Bu durumun, toprağın daha çok hangi özelliğinden kaynaklandığı söylenebilir?

- A) İnşaat sektörünün ham maddesi olması
B) Yeraltında yaşayan canlılara barınak olması
C) İnsanoğlunun temel besin ihtiyaçlarını sağlaması
D) Hayvanlara ve bitkilere yaşam alanı oluşturması

9. Genellikle bilim ve tekniğin gelişmesine katkıda bulunabilecek nitelikli insanların başka ülkelere çalışmak üzere göç etmelerine "beyin göçü" denir.

**Buna göre aşağıdaki kişilerden hangisinin Kanada'ya göç etmesi beyin göçü olarak ni-
telendirilemez?**

- A) Bilgisayar mühendisi Orkun Bey'in
- B) İnşaat işçisi Hamdi Bey'in
- C) Çocuk doktoru Firuze Hanım'ın
- D) Ekonomi uzmanı Birol Bey'in

10. Ülkemizde tarımı destekleyen birçok kurum ve kuruluş vardır.

Bu kurum ve kuruluşlar arasında aşağıdakilerden hangisi yer almaz?

A)



TÜBİTAK

B)



Ziraat Bankası

C)



D)

