


1. Birinci Dünya Savaşı başladığında Osmanlı yöneticileri, bir yandan ülke güvenliğini sağlamaya yönelik tedbirler alırken, diğer yandan da devletin takip edeceği savaş politikasını belirlemeye çalışıyorlardı.

I. Dünya Savaşı Başladığında Osmanlı Devleti

Tarafsızlığını ilan etti.



Boğazları ulaşıma kapattı.



Ülke genelinde seferberlik başlattı.



Kapitülasyonları kaldırdığını duyurdu.




1. Yukarıda verilenlerden hangisi başkentin güvenliğini sağlamaya yöneliktir?
2. Yukarıda verilenlerden hangisi ekonomik baskılardan kurtulmaya yöneliktir?

Buna göre, aşağıdaki öğrencilerden hangisinin iki soruya da doğru cevap verdiği söylenebilir?

A)




Yağiz



B)



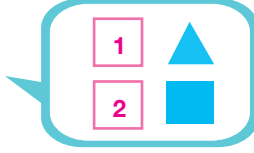
Yasin



C)



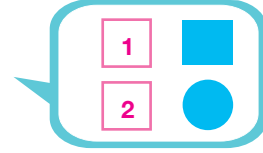
Toprak



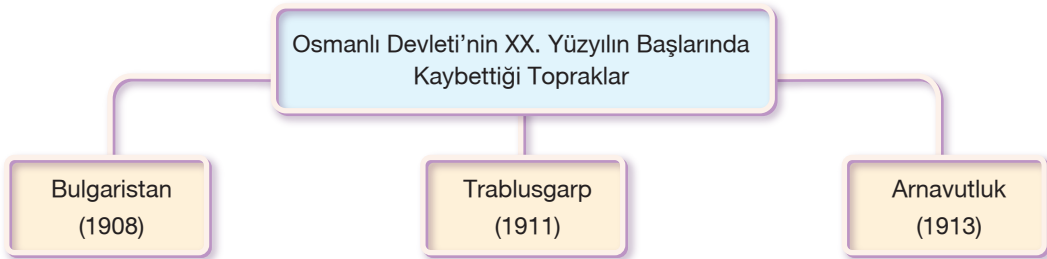
D)



Ulaş



2.



Yaşanan bu toprak kayıplarının Osmanlı Devleti'nde;

- Akdeniz egemenliğinin zayıflaması,
- Balkanlardaki Türk egemenliğinin sona ermesi,
- içte ve dışta itibar kaybedilmesi

durumlarından hangilerinin yaşanmasına neden olduğu söylenebilir?

A) Yalnız III

B) I ve II

C) II ve III

D) I, II ve III

3. Osmanlı Devleti'nin I. Dünya Savaşı'na girmesinde etkili olan,

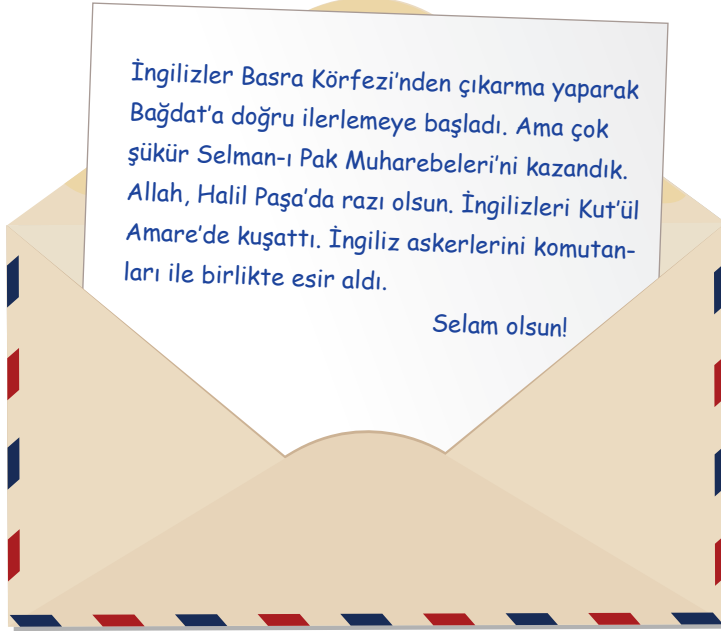
- 1 Kaybedilen toprakların geri alınmak istenmesi,
- 2 Kapitülasyonların kaldırılmak istenmesi,
- 3 Dış borçlardan kurtulunmak istenmesi,
- 4 Turancılık hayalinin gerçekleştirilmek istenmesi

nedenlerin siyasi ve ekonomik alanla olan ilişkisi aşağıdakilerin hangisinde doğru olarak gruplandırılmıştır?

	Siyasi	
A)	1	2
B)	3	4
C)	1	4
D)	1	3

	Ekonomik	
	3	4
	1	2
	2	3
	2	4

4.

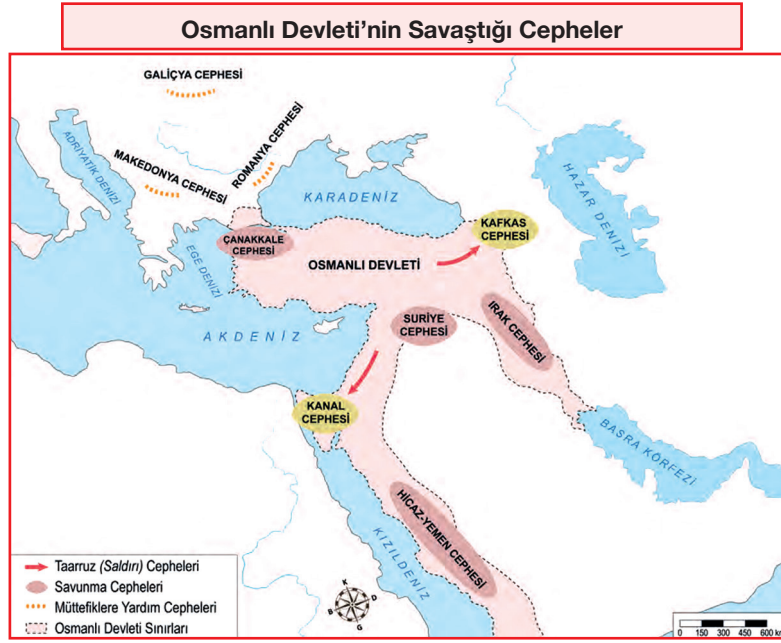


Yukarıdaki mektubu Birinci Dünya Savaşı'na katılan bir asker ailesine yazmıştır.

Mektupta yazılanlardan hareketle bu askerin hangi cephede görev yaptığı söylenebilir?

- | | |
|--------------------------|----------------------|
| A) Irak Cephesi | B) Çanakkale Cephesi |
| C) Hicaz – Yemen Cephesi | D) Kafkas Cephesi |

5.



Yukarıdaki haritada Osmanlı Devleti'nin Birinci Dünya Savaşı'nda mücadele ettiği cepheler gösterilmiştir.

Buna göre;

- 1 Osmanlı Devleti'nin İngiltere ve Fransa'ya karşı mücadele ettiği cephe hangisidir?
- 2 Ermenilerin Osmanlı Devleti'ne karşı Ruslarla işbirliği yaptığı cephe hangisidir?
- 3 Osmanlı Devleti'nin, Almanya'nın yoğun ısrarları sonucunda açtığı cephe hangisidir?
- 4 İngilizlerin, Musul – Kerkük petrol bölgelerini ele geçirmek amacıyla açtığı cephe hangisidir?

Yukarıdaki soruların cevapları aşağıdaki seçeneklerin hangisinde doğru olarak verilmiştir?

	1	2	3	4
A)	Kafkas	Kanal	Çanakkale	Romanya
B)	Hicaz - Yemen	Kafkas	Kanal	Irak
C)	Irak	Suriye	Makedonya	Galiçya
D)	Çanakkale	Kafkas	Kanal	Irak

6 ve 7. soruları metinde verilen bilgilere göre cevaplayınız.

Osmanlı yöneticileri, ilk ittifak teklifini İngilizlere yani İtilaf Devletlerine yaptılar. Bunda Almanya'ya karşı duyulan kırgınlığın da etkisi vardı. Çünkü Osmanlı yöneticileri son dönemde yaptıkları savaşlarda müttefik bildikleri Almanlardan destek görememişti. İngiltere ile müttefik olunması halinde ise, Osmanlı Devleti üzerindeki Rus baskısının İngilizler tarafından önleneceğini düşünüyorlardı. Ekonomik ve askeri gücü iyice zayıflamış olan Osmanlı Devleti'nin bu ittifak teklifi, Rusların da baskısıyla, İngilizler tarafından reddedildi. Ancak Osmanlı Devleti'nin karşı bloka kaymasını istemeyen İngilizler, onu savaşın sonuna kadar tarafsız tutma gayreti içine girdiler. Osmanlı Devleti'nin tarafsız kalması halinde, savaşın sonunda kapitülasyonları gözden geçirebileceklerini vadettiler. Bu, Osmanlı Devleti'ni oyalamaktan başka bir şey değildi. Çünkü İtilaf Devletleri "bölüşülecek pasta" olarak gördükleri Osmanlı topraklarını savaş bittiğinde kendi aralarında paylaşmayı planlıyorlardı.

6. Metinde verilen bilgiler aşağıdaki sorulardan hangisine cevap olamaz?

- A) Osmanlı Devleti, üzerindeki Rus baskısını hangi devletten alacağı destekle önlemeyi düşünmüştür?
- B) Osmanlı Devleti'nin İngilizlere yaptığı ittifak teklifinin reddedilmesinde hangi devletin baskısı etkili olmuştur?
- C) Osmanlı yöneticilerinin ilk ittifak teklifini İngilizlere yapmasının nedenleri nelerdir?
- D) Almanya'nın, Osmanlı Devleti'ni yanında savaşa sokmak istemesinde hangi faktörler etkili olmuştur?

7. Yukarıdaki metinde altı çizili olarak gösterilen ifadede kastedilen savaşlar arasında,

- I. Trablusgarp Savaşı
- II. Balkan Savaşları
- III. Birinci Dünya Savaşı
- IV. Kurtuluş Savaşı

hangileri yer almaz?

- A) I ve II
- B) I ve III
- C) II ve III
- D) III ve IV