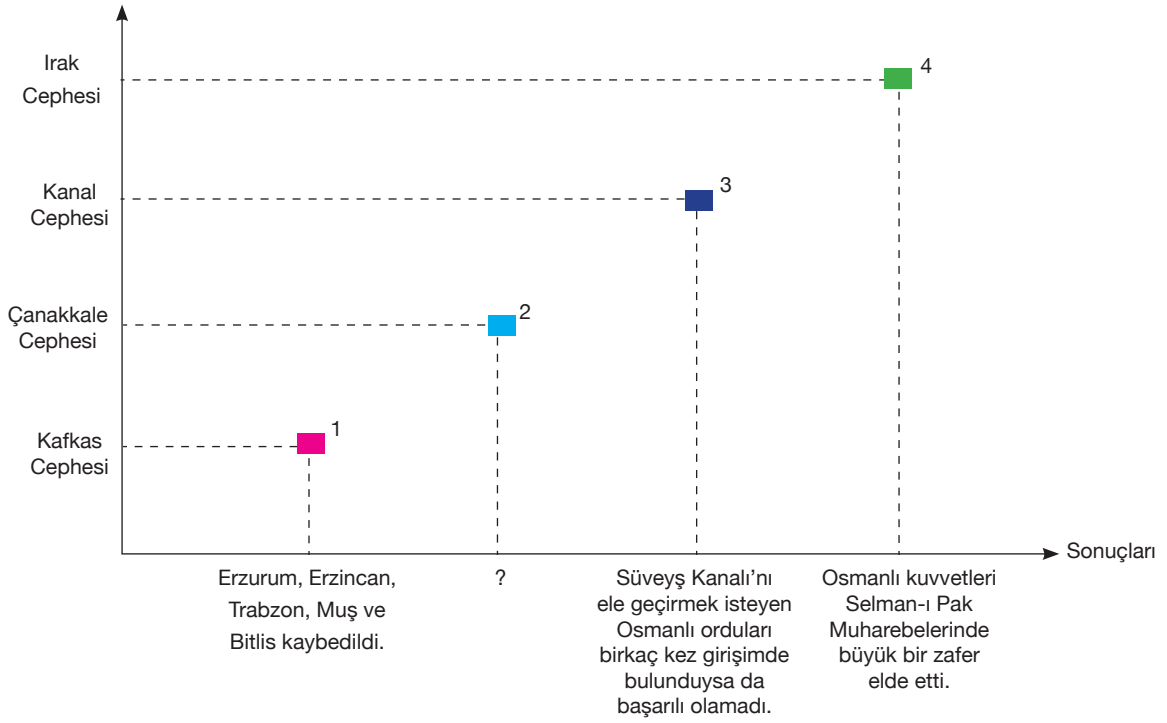


1. Osmanlı Devleti'nin Mücadele Ettiği Cepheler

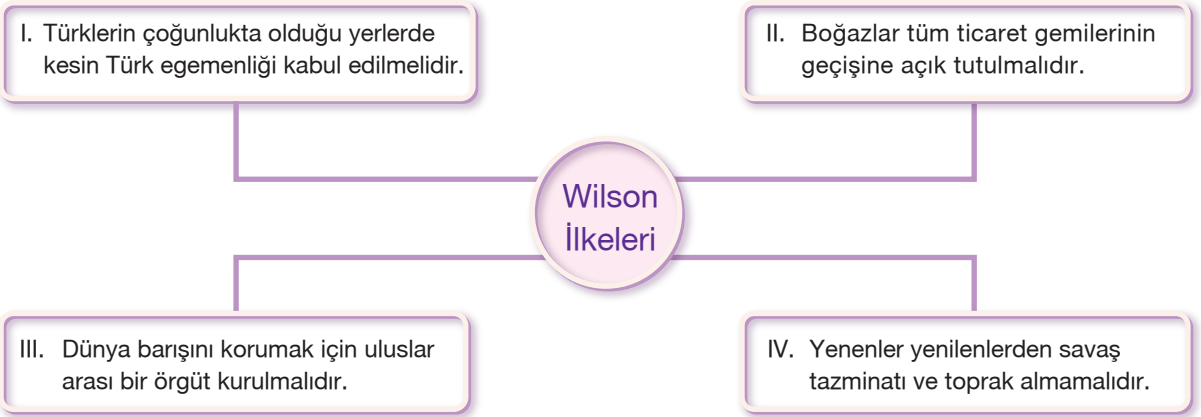


Yukarıdaki grafikte Birinci Dünya Savaşı'nda Osmanlı Devleti'nin mücadele ettiği cepheler ve bu mücadelelerin sonuçları gösterilmiştir.

Buna göre “?” ile gösterilen yere aşağıdakilerden hangisi yazılabilir?

- A) Ermenileri göçe zorlayan Tehcir Kanunu çıkarıldı.
- B) Bulgaristan, İtilaf Devletleri'nin yanında savaşa girdi.
- C) Savaşın süresi uzadı.
- D) İtalya, İttifak Devletlerini terk ederek İtilaf Devletleri tarafına geçti.

2.



Yukarıdaki diyagramda verilen maddelerden hangisi Osmanlı Devleti'nin egemenlik haklarına müdahale edilmesine kanıt olarak gösterilebilir?

- A) I
- B) II
- C) III
- D) IV

## 3. İtilaf Devletleri, Çanakkale Savaşları ile:

Çanakkale Boğazı'nı geçip İstanbul'u işgal ederek Osmanlı Devleti'ni teslim almayı	Karadeniz'e geçip müttefikleri Rusya'ya yardım göndermeyi	Elde edebilecekleri zafer sayesinde savaşa girmemiş devletleri kendi yanlarında savaşa çekmeyi hedeflemişlerdir.
--	---	--

Bu amaçlarla hareket eden İngiliz ve Fransızlar Çanakkale Savaşlarında başarılı olamamıştır.

**Buna göre, İtilaf Devletlerinin hedefledikleri ile savaşın sonucu birlikte değerlendirildiğinde, aşağıdakilerden hangisinin Çanakkale Savaşlarının sonuçlarından biri olduğu söylenemez?**

- A) İstanbul'un işgalinin gecikmesi
- B) Ruya'da yaşanan sosyal ve ekonomik sıkıntıların artması
- C) Bulgaristan'ın İttifak Grubu'nda savaşa girmesi
- D) ABD'nin Wilson İlkelerini yayımlayarak savaşa girmesi

4. Birinci Dünya Savaşı'nda yenilen Almanya, Versay Antlaşması'yla Polonya'ya bırakmış olduğu yerleri geri almak için, daha sonra Polonya'nın batı bölgesini işgal etmiştir. Almanya'nın bu tutumu karşısında İngiltere ve Fransa barışı korumaya çalışmışlarsa da İkinci Dünya Savaşı'nın çıkmasını engelleyememişlerdir.

**Bu durum, Birinci ve İkinci Dünya Savaşları arasında nasıl bir ilişki olduğunu gösterir?**

- A) İki savaşta da çok sayıda cephe açılmıştır.
- B) Birinci Dünya Savaşı öncesindeki bloklaşmalar günümüze kadar devam etmiştir.
- C) Savaşların ikisi de aynı hükümleri içeren antlaşmalarla sonuçlanmıştır.
- D) Birinci savaşın sonucu ikinci savaşın başlamasına ortam hazırlamıştır.

## 5. Birinci Dünya Savaşı galiplerinin yenilenlere kabul ettirecekleri koşulları görüşmek amacıyla topladıkları konferans aşağıdakilerden hangisidir?

- A) San Remo Konferansı
- B) Paris Konferansı
- C) Londra Konferansı
- D) İstanbul Konferansı

6. Birinci Dünya Savaşı sonrasında toplanan Paris Barış Konferansı'nda Osmanlı sadrazamı Damat Ferit Paşa, Anadolu'da bir Ermeni Devleti kurulması fikrini kabul edebileceklerini, Arapların Osmanlı Devleti'nden ayrılmasını ise kabul edemeyeceklerini bildirmiştir.

**Sadrazamın bu düşüncesi Osmanlı Devleti'nin aşağıdaki anlayışlardan hangisini terk etmediğini gösterir?**

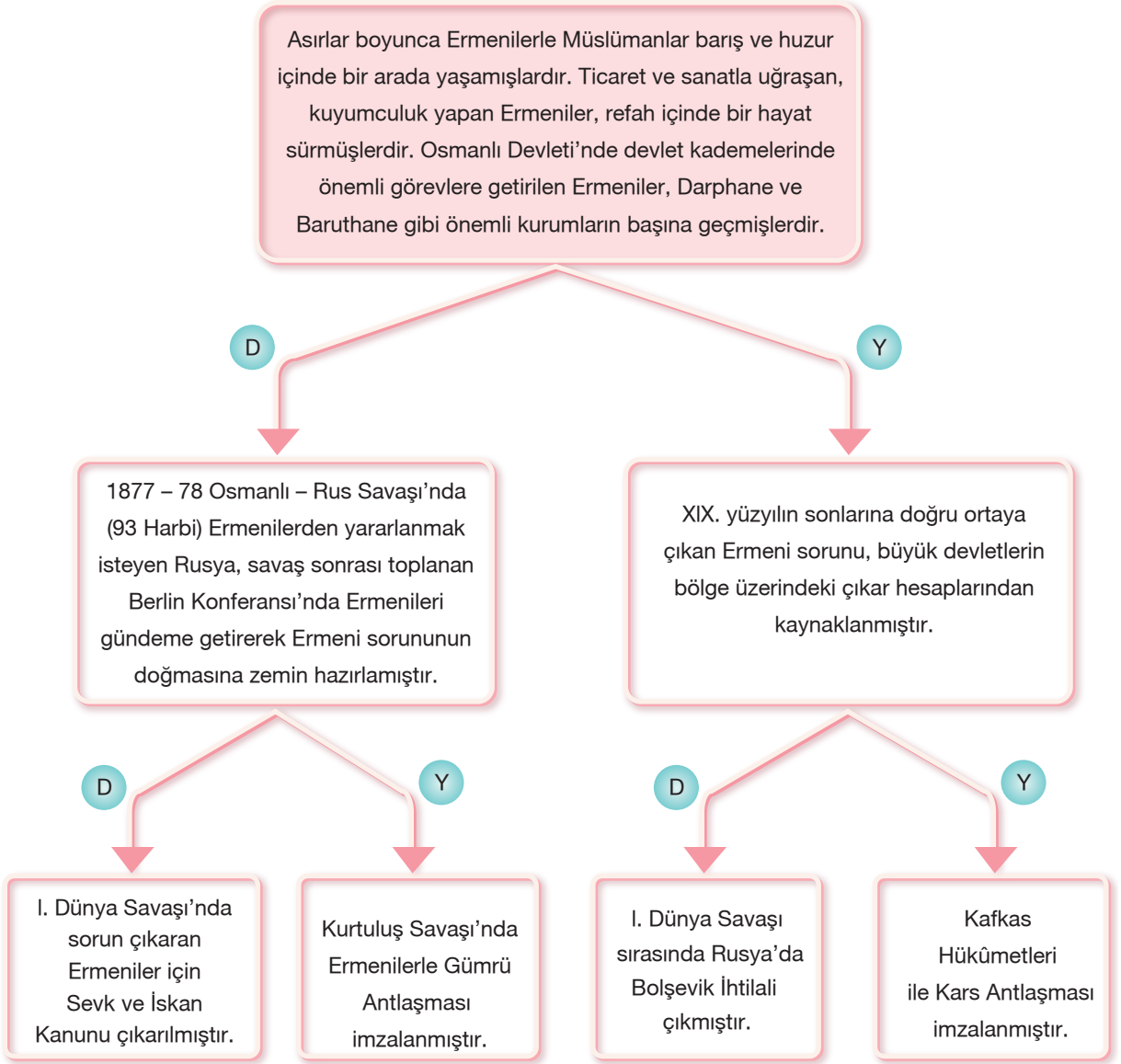
- A) Osmanlı halkının eşitliği
- B) Devletin "Türklük" karakteri
- C) Toprak bütünlüğü
- D) Devletin "Ümmetçilik" özelliği

7. Osmanlı Devleti, 1915 Tehcir Kanunu ile, isyan eden, halka zulmeden ve düşmanla işbirliği yapan Ermenileri yine bir Osmanlı toprağı olan Suriye'ye zorunlu olarak göçe tabi tutmuştur. Bu göç hareketi devlet kontrolünde ve bir düzen çerçevesinde gerçekleştirilmiştir.

**Bu bilgilere göre aşağıdakilerden hangisine ulaşamaz?**

- A) Osmanlı Devleti göç hareketini belirli bir sistem ve düzen içerisinde yapmıştır.
- B) Ermeniler, I. Dünya Savaşı'nda Osmanlı Devleti'ne karşı düşmanla ittifak kurmuştur.
- C) Osmanlı Devleti Ermenileri sınır dışı etmiştir.
- D) Tehcir Kanunu ile huzur ve güvenlik sağlanmaya çalışılmıştır.

8.

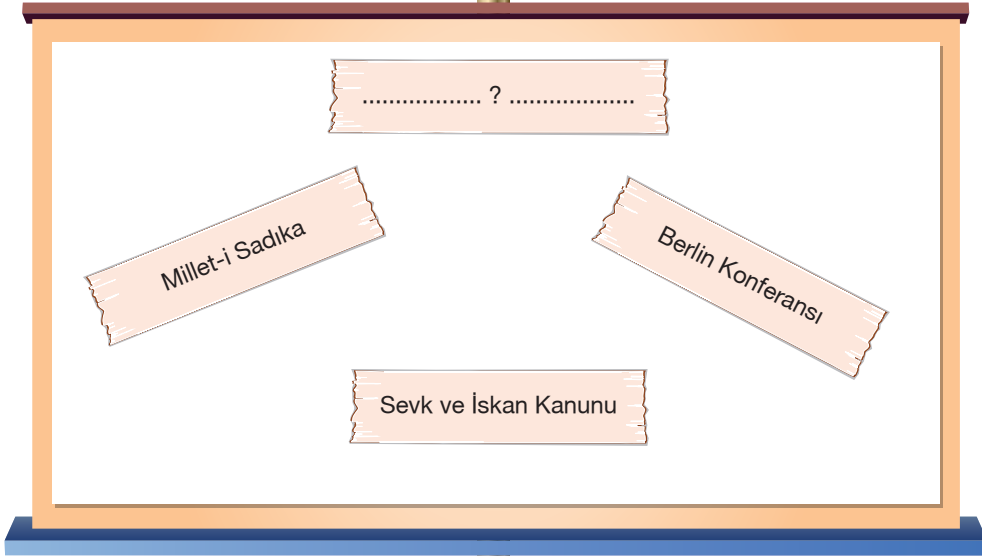


Yukarıdaki şemada ifadeler doğru ise (D), yanlış ise (Y) ile ifade edilmiştir.

**Şemadan doğru bilgileri takip ederek devam ettiğimizde çıkan sonuç ile ilgili aşağıdakilerden hangisi söylenebilir?**

- A) Ermeni sorunu kesin olarak sona ermiştir.
- B) Rusya'da rejim değişikliği yaşanmıştır.
- C) Doğu sınırimız bugünkü şeklini almıştır.
- D) Osmanlı Hükümeti olaylara karışan Ermenileri ülkenin daha sakin bir bölgesi olan Suriye'ye nakletme kararı almıştır.

9.



Yukarıdaki tahtaya yapıştırılmış magnetlerde yazılan ifadelerin aşağıdakilerden hangisi ile ilgili olduğu söylenebilir?

A) Hicaz - Yemen Cephesi

B) Ermeni Sorunu

C) Milli Cemiyetler

D) Milletin Ordusu: Kuvâ-yı Milliye

10.

İtilaf Devletleri I. Dünya Savaşı'ndan sonra, yenilen devletlerle imzalanacak barış antlaşmalarının şartlarını görüşmek üzere Paris'te bir konferans düzenlediler. Paris Barış Konferansı'nda Osmanlı Devleti dışındaki diğer devletlerle barış antlaşmaları imzaladılar. Bu antlaşmalarda yenilen devletleri acımasızca ezdiler. Yenilen devletlerden "onarım ücreti" adı altında ödenmesi mümkün olmayan savaş tazminatı istediler. "Manda ve himaye" adı altında sömürgecilik faaliyetlerini devam ettirdiler. Dünya barışını koruması için kurulan "Milletler Cemiyeti" barıştan çok İngiltere'nin çıkarlarını korudu. Tüm bunlar, büyük bir yıkımdan çıkan devletlerin yeni bir yıkıma doğru sürüklenmesine neden oldu.

Metindeki bilgilerden yola çıkarak,

- I. konferans kararlarının Wilson İlkeleri ile uygunluk gösterdiği,
- II. Milletler Cemiyetinin tarafsız davranmadığı,
- III. sömürgecilik faaliyetlerinin sona erdiği,
- IV. alınan kararların yeni sorunlara yol açtığı

yargılarından hangilerine ulaşılabilir?

A) I ve II

B) II ve III

C) II ve IV

D) I, II ve III